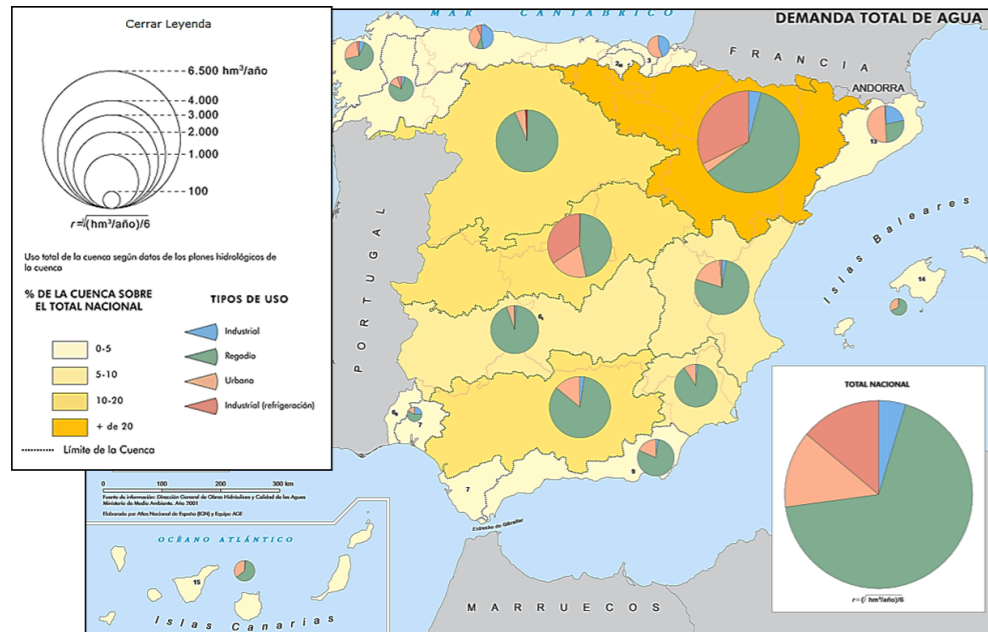


GEOGRAFÍA

El alumnado deberá responder a una de las dos opciones que se proponen. Además de los contenidos, en la calificación de la prueba, particularmente en el Apartado B, se valorará la redacción, la ortografía y la puntuación.

OPCIÓN 1

APARTADO A (3 puntos)



Observe el mapa y responda a las siguientes cuestiones:

1. Señale al menos seis cuencas hidrográficas en las que la demanda de agua para regadío está por encima del 50 % del total (1 punto).

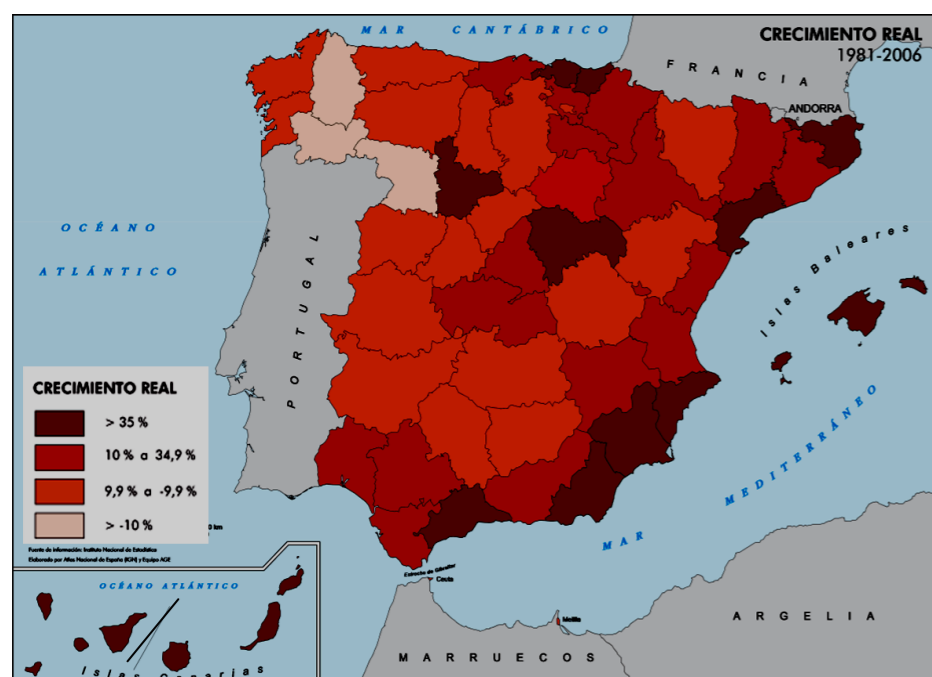
2. Explique la razón por la que hay cuatro cuencas en las que la demanda de agua para regadío está por debajo del 50 % del total (1 punto)

Defina 3 de los siguientes términos (1 punto): Archipiélago, albedo, cauce, maquia, perfil del suelo .

APARTADO B (4 puntos)

Desarrolle de manera sintética el siguiente tema: **EL TURISMO DE PROCEDENCIA EXTERIOR EN ESPAÑA: PRINCIPALES RASGOS DEL TURISMO EXTERIOR EN ASTURIAS.**

APARTADO C (3 puntos)



Observe el mapa y responda a las siguientes cuestiones:

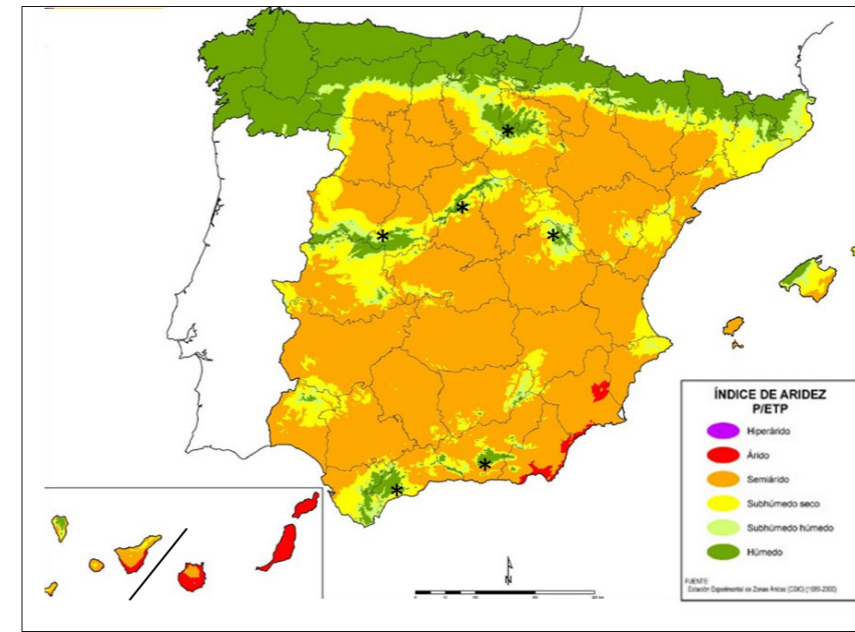
1. ¿Qué provincias presentan los mayores valores de crecimiento real entre 1981 y 2006? (1 punto).

2. Señale las razones que explican los valores de Guadalajara y de Murcia (1 punto)

Defina 3 de los siguientes términos (1 punto): Pesca de altura, energía hidroeléctrica, importación, saldo migratorio, sistema urbano.

OPCIÓN 2

APARTADO A (3 puntos)



Observe el mapa y responda a las siguientes cuestiones:

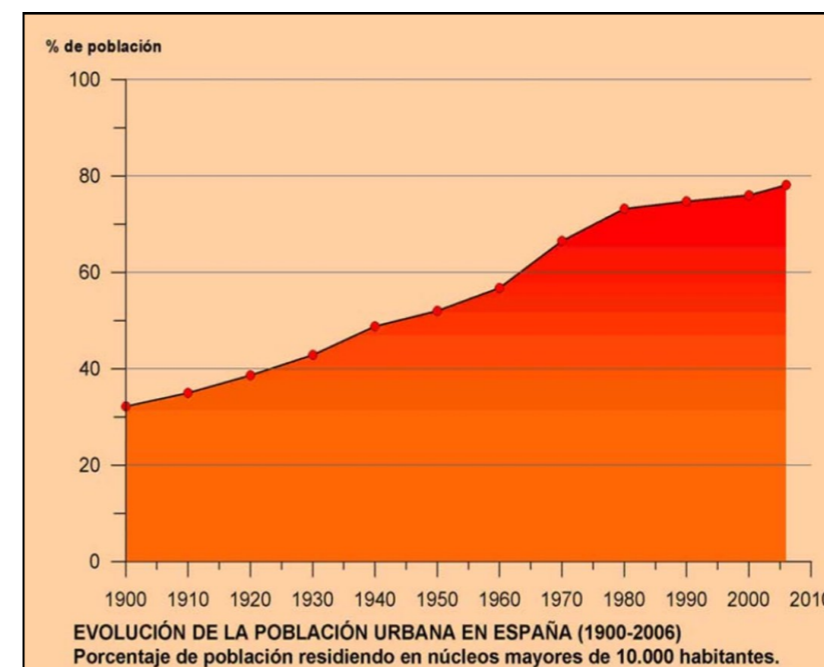
1. Señale las provincias que cuentan con un índice de aridez tipo "árido"(1 punto).
2. Explique la razón por la que en los lugares señalados con asterisco se dan índices de aridez tipo "húmedo" (1 punto).

Defina 3 de los siguientes términos (1 punto): Curvas de nivel, solana, bosque caducifolio, escorrentía, suelo.

APARTADO B (4 puntos)

Desarrolle de manera sintética el siguiente tema: **CARACTERÍSTICAS DEL PAISAJE AGRARIO DEL NORTE DE ESPAÑA: POBLAMIENTO, CONSTRUCCIONES RURALES, PARCELARIO Y CULTIVOS**

APARTADO C (3 puntos)



Observe el gráfico y responda a las siguientes cuestiones:

1. Comente brevemente los principales factores que explican la evolución de la curva en el gráfico (1 punto).
2. Señale los principales problemas que se derivan de la situación actual [valores de la población urbana y de la población rural] (1 punto).

Defina 3 de los siguientes términos (1 punto): Agricultura intensiva, industria siderúrgica, sistema o red de transporte, tasa de mortalidad, morfología urbana .



GEOGRAFÍA

Criterios de corrección

CRITERIOS GENERALES

El alumnado deberá responder a una de las dos opciones que se proponen. Además de los contenidos, en la calificación de la prueba, particularmente en el Apartado B, se valorará la redacción, la ortografía y la puntuación.

CRITERIOS ESPECÍFICOS

OPCIÓN 1

Apartado A.

El alumnado deberá demostrar capacidad para:

- Señalar que son las Cuencas del litoral gallego, del Sil, del Duero, del Guadiana, del litoral de Huelva, del Guadalquivir, del Júcar y Segura, del litoral mediterráneo sur, de Baleares y de Canarias las que cuentan con una demanda de agua para regadío por encima del 50 % del total.
- Apuntar como principal la razón por la que en cuatro cuencas la demanda de agua para regadío está por debajo del 50 % del total, la importancia que en ellas tiene el consumo urbano y el industrial.
- Definir los términos de **archipiélago** (conjunto de islas agrupadas en un área más o menos extensa de mar); **albedo** (capacidad que tienen los cuerpos para reflejar la radiación solar); **cauce** (espacio por donde circula el agua de un río); **maquia** (formación arbustiva rica y densa, de cierta altura, integrada por matorrales esclerófilos propios de la región mediterránea); **perfil del suelo** (conjunto de horizontes o capas que presenta un suelo, individualizados por sus características físicas, químicas y biológicas)
[LAS DEFINICIONES QUE SE DAN EN ESTOS CRITERIOS SON MERAMENTE INDICATIVAS]

Apartado B

El alumnado deberá demostrar capacidad para:

- Señalar el incremento de la capacidad de consumo en otros países o la mejora y abaratamiento de los sistemas de transporte como factores que propiciaron un aumento del número de turistas que visitaron España
- Indicar las características de España, tales como la localización, las características naturales, los recursos culturales, las infraestructuras, los precios, etc, que han supuesto un atractivo para los visitantes del exterior
- Valorar el papel del turismo de procedencia exterior en Asturias.



Apartado C

El alumnado deberá demostrar capacidad para:

- Reconocer Que son las provincias de Valladolid, Guadalajara Girona, Tarragona, Alicante Murcia, Almería, Vizcaya, Guipúzcoa, Islas Baleares, Santa Cruz de Tenerife y Las Palmas las que presentan los mayores valores de crecimiento real entre 1981 y 2006.
- Apuntar como razones que explican los valores de Guadalajara y Murcia el efecto producido por Madrid en el primer caso y la importancia de las actividades económicas del sector servicios en el segundo.
- Definir los términos de **pesca de altura** (captura de peces a distancias lejanas de la costa con una flota de barcos de considerable tonelaje, que permanece en el mar días o semanas y que introduce el proceso industrializador en los barcos y las artes de pesca); **energía hidroeléctrica** (energía renovable obtenida al transformar la energía mecánica de la fuerza del agua en electricidad); **importación** (compra de productos extranjeros); **saldo migratorio** (balance entre la inmigración y la emigración); **sistema urbano** (red de ciudades que organizan un espacio mediante sus interrelaciones) [LAS DEFINICIONES QUE SE DAN EN ESTOS CRITERIOS SON MERAMENTE INDICATIVAS]

OPCIÓN 2

Apartado A

El alumnado deberá demostrar capacidad para:

- Reconocer que las provincias de Murcia, Almería, Santa Cruz de Tenerife y Las Palmas cuentan con índice de aridez tipo “árido”,
- Señalar como razón por la que en los lugares señalados con asterisco se den índices de aridez tipo “húmedo” el hecho de que se trate de zonas de montaña, y el efecto que tal circunstancia produce en el incremento de las precipitaciones
- Definir los términos de **curva de nivel** (línea imaginaria que une puntos de igual altitud); **solana** (vertiente de una montaña que recibe los rayos del sol plenamente); **bosque caducifolio** (espacio poblado por árboles cuyas hojas caen en una época del año); **escorrentía** (desplazamiento del agua, ya sea por la superficie de la tierra o subterráneamente); **suelo** (capa superficial de la corteza terrestre alterada física y químicamente, que está compuesta de elementos sólidos -minerales y orgánicos-, líquidos -agua- y gaseosos -CO₂-) [LAS DEFINICIONES QUE SE DAN EN ESTOS CRITERIOS SON MERAMENTE INDICATIVAS]

Apartado B

El alumnado deberá demostrar capacidad para:

- Distinguir de entre los tipos de poblamiento existentes en España los propios de los paisajes agrarios del norte (disperso, disperso intercalar y concentrado en disposición laxa).
- Conocer los materiales dominantes en las construcciones rurales tradicionales del norte de España (paredes y cubiertas) y las tipologías de construcciones más comunes (casas bloque)
- Señalar el predominio del minifundio parcelario y la abundancia de cercas, particularmente de seto vivo, en un área donde la ganadería domina ampliamente sobre la agricultura y donde las áreas forestales aún juegan un papel relevante desde el punto de vista paisajístico y económico



Apartado C

El alumnado deberá demostrar capacidad para:

- Señalar como principales factores que explican la evolución de la población urbana en España entre 1900 y 2006 el paso de una sociedad agraria a otra urbana, industrial y terciaria; los movimientos masivos de población desde el campo a las ciudades o el proceso de concentración urbana.
- Apuntar como problemas principales que se derivan de la situación actual el despoblamiento y abandono del campo y las dificultades para la ordenación y gestión de las áreas urbanas, así como los problemas de contaminación y gestión de residuos, saturación del tráfico, etc.
- Definir los términos de **agricultura intensiva** (práctica agrícola caracterizada por una gran inversión en tecnología o mano de obra que propicia una elevada productividad); **industria siderúrgica** (rama industrial dedicada a la producción de hierro y acero); **sistema o red de transporte** (conjunto de medios que permite el desplazamiento de mercancías y personas de unos lugares a otros); **tasa de mortalidad** (número de defunciones en un año por cada mil habitantes en relación con la población total); **morfología urbana** (aspecto físico que presenta la ciudad) [LAS DEFINICIONES QUE SE DAN EN ESTOS CRITERIOS SON MERAMENTE INDICATIVAS]