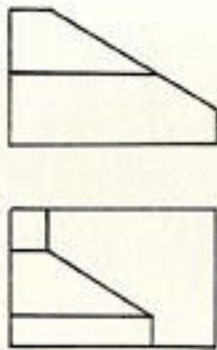


**Pregunta n° 6.-**

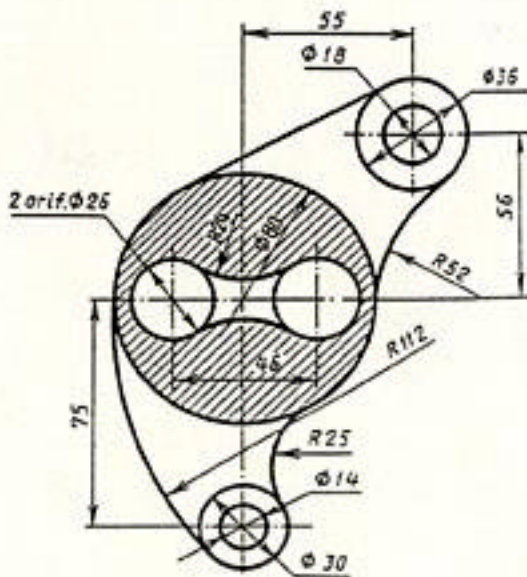
Dadas las dos vistas de una pieza dibujar la tercera.



1 2 3 4 5

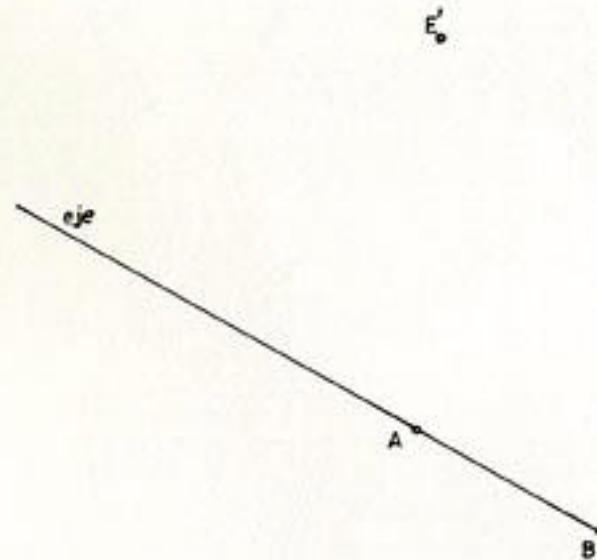
Restar a 3. Puntuación de cada uno (2 Puntos).

En la figura adjunta, indicando claramente los centros y puntos de escala 3/5. No hace falta poner las cotas ni rayar.



**Ejercicio n° 2.-**

Hallar la figura afin de un pentágono regular ABCDE que tiene la b... pentágono y suponiendo que la característica de afinidad es positiva.



**Ejercicio n° 3.-**

Conocemos la traza vertical de un plano  $\alpha$  en el que está situado un triángulo. Los lados del triángulo están situados en los planos de proyección. Abatimiento sobre el plano horizontal.

