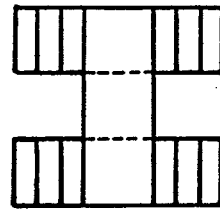

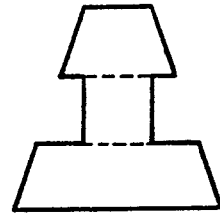
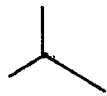


**Ejercicio 4**

Dibujar la perspectiva axonométrica isométrica de la pieza dada por sus vistas sin tener en cuenta el coeficiente de reducción. Escala 2/1



**Ejercicio 5**

Acotar la pieza dada según normas, teniendo en cuenta para determinar las medidas de la misma la cota señalada en ella.

