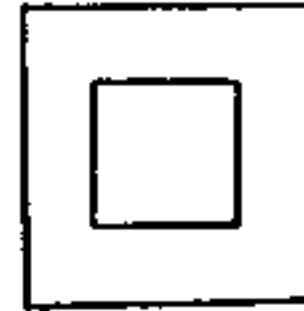
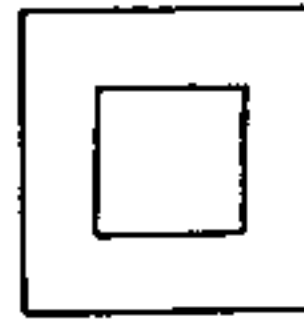
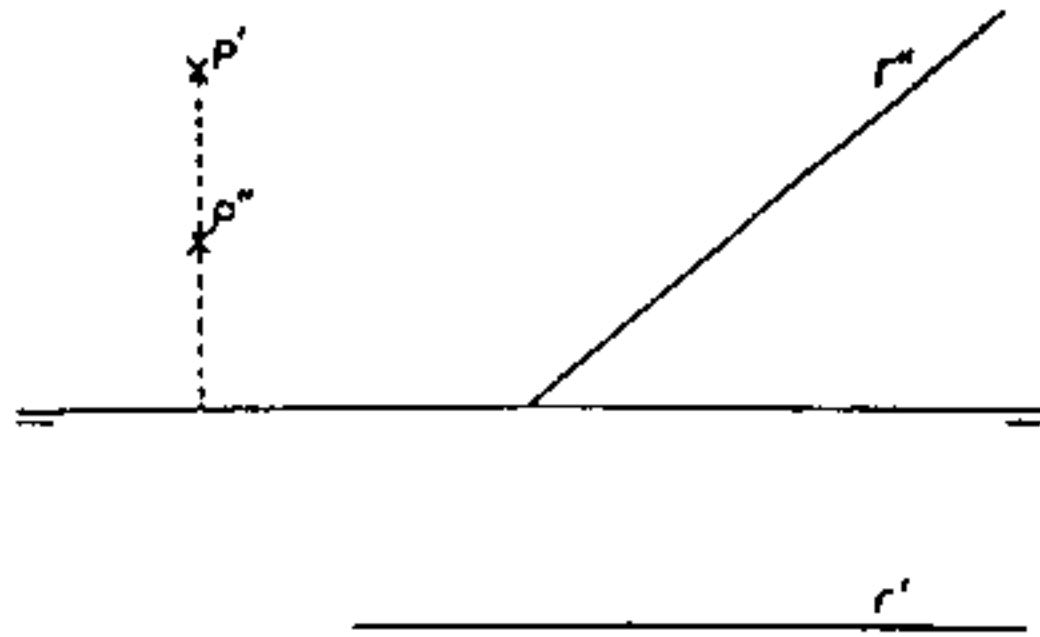


**Pregunta 5**

Dadas las proyecciones diédricas de un punto P y de una recta r, hallar las trazas del plano  $\alpha$  que determinan.

**Pregunta 6**

A partir de las dos vistas dadas hallar la tercera



Marcar los ejercicios elegidos

- ① ② ③ ④ ⑤

SEGUNDA PARTE.- De los 5 ejercicios contestar 3. Puntuación de cada uno. (2 Puntos)

**Ejercicio 1**

Aplicación de tangencias. Reproducir la pieza dada a escala 3/5. Calcular y dibujar la escala gráfica correspondiente. No hace falta acotar.

