



UNIVERSIDAD DE OVIEDO
Vicerrectorado de Estudiantes y Movilidad
Área de Orientación Universitaria

MATERIA: **DIBUJO TÉCNICO**

CALIFICACIÓN	2ª Corrección (doble corrección)	3ª Corrección (doble corrección)	RECLAMACIÓN
Firma	Firma	Firma	Firma

ESPACIO
RESERVADO
PARA
LA
UNIVERSIDAD

Marcar con un \otimes las preguntas elegidas

① ② ③ ④ ⑤ ⑥

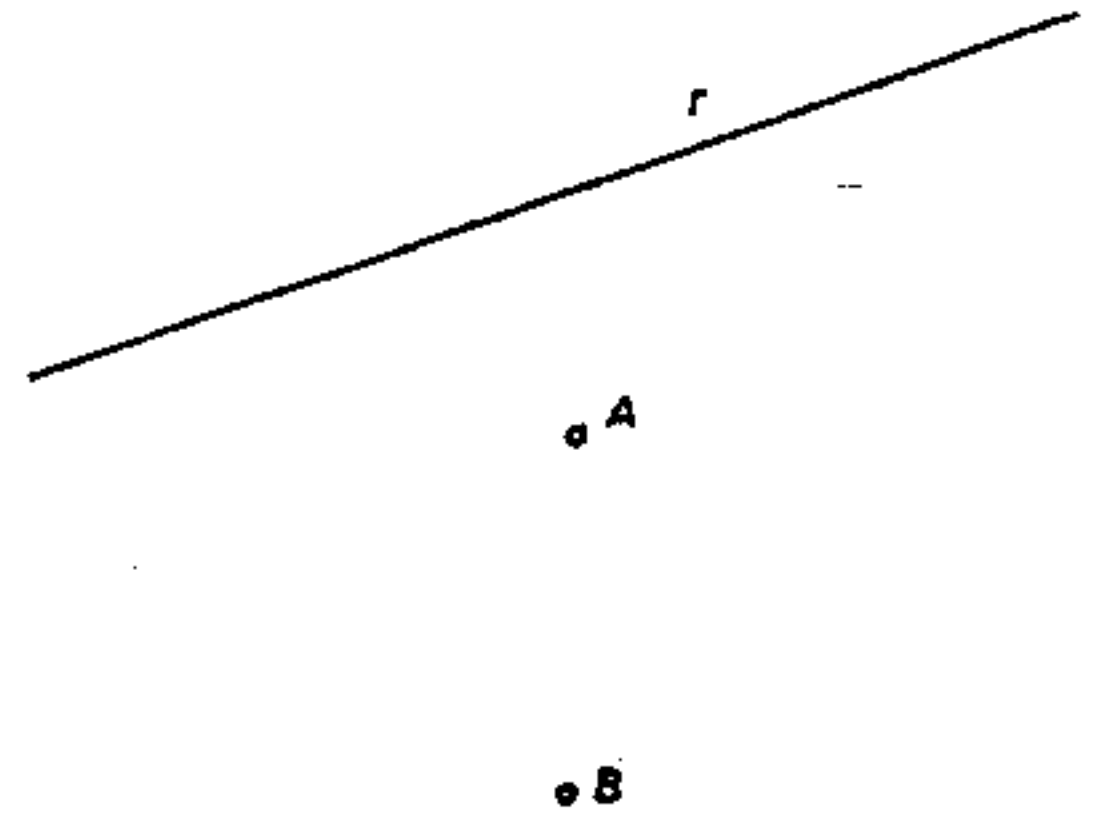
PRIMERA PARTE.- De las 6 preguntas propuestas contestar 4. Puntuación de cada una 1 punto.

Pregunta 1

Construir un rectángulo conocido el lado mayor $a = 75 \text{ mm.}$ y el ángulo $\alpha = 130^\circ$ que forman las diagonales

Pregunta 2

Trazar las circunferencias tangentes a una recta r y que pasen por los puntos A y B.

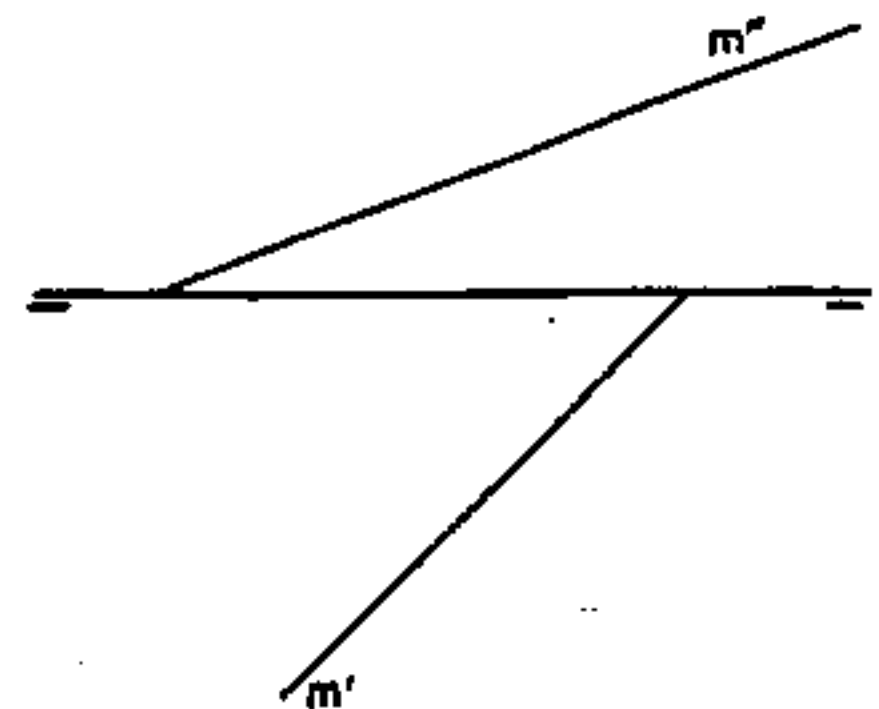
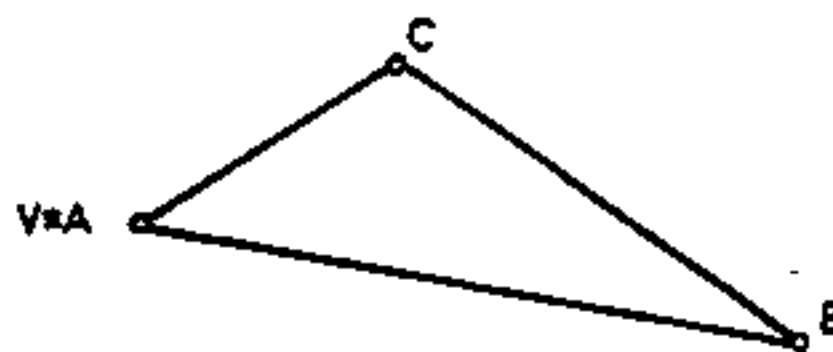


Pregunta 3

Hallar el homólogo del triángulo ABC dado

Pregunta 4

Hallar las trazas de un plano definido por su línea de máxima pendiente m .



PEGUE AQUÍ LA CABECERA ANTES DE ENTREGAR EL EXAMEN