



UNIVERSIDAD DE OVIEDO  
Vicerrectorado de Estudiantes y Movilidad  
Área de Orientación Universitaria

MATERIA: **DIBUJO TÉCNICO**

CALIFICACIÓN	2ª Corrección (doble corrección)	3ª Corrección (doble corrección)	RECLAMACIÓN
Firma	Firma	Firma	Firma

ESPACIO  
RESERVADO  
PARA  
LA  
UNIVERSIDAD

Marcar con un  $\otimes$  las preguntas elegidas

① ② ③ ④ ⑤ ⑥

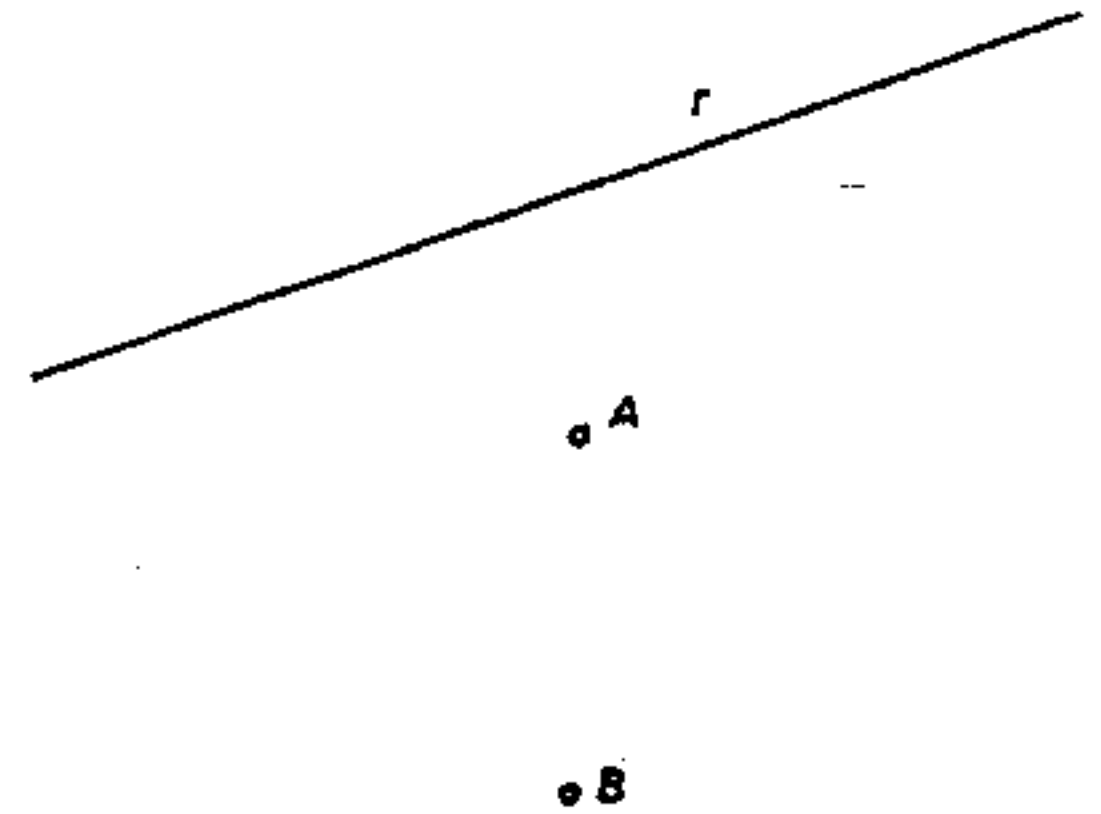
**PRIMERA PARTE.**- De las 6 preguntas propuestas contestar 4. Puntuación de cada una 1 punto.

**Pregunta 1**

Construir un rectángulo conocido el lado mayor  $a = 75 \text{ mm.}$  y el ángulo  $\alpha = 130^\circ$  que forman las diagonales

**Pregunta 2**

Trazar las circunferencias tangentes a una recta  $r$  y que pasen por los puntos A y B.

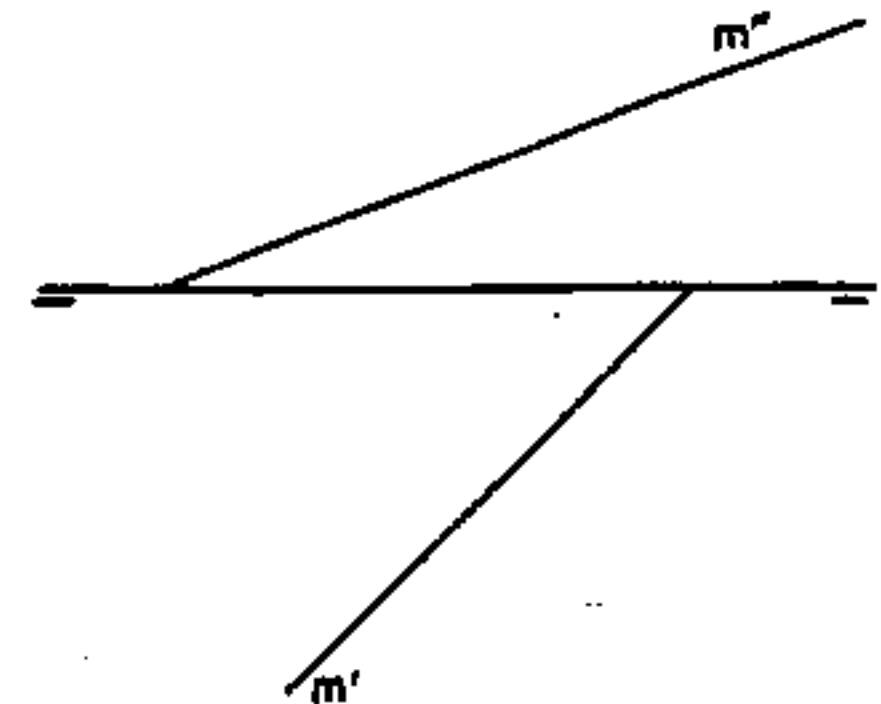
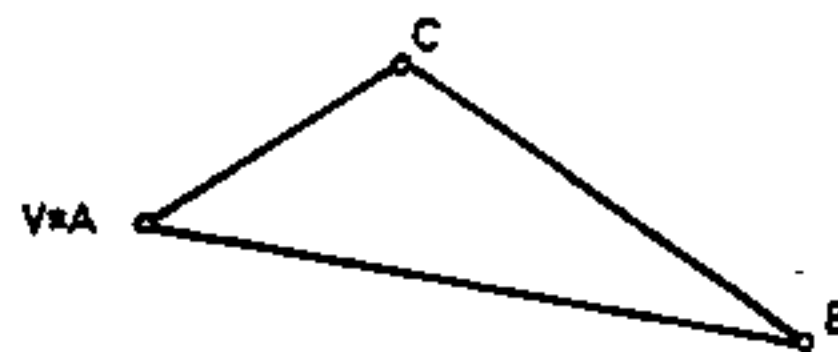


**Pregunta 3**

Hallar el homólogo del triángulo ABC dado

**Pregunta 4**

Hallar las trazas de un plano definido por su línea de máxima pendiente  $m$ .



PEGUE AQUÍ LA CABECERA ANTES DE ENTREGAR EL EXAMEN