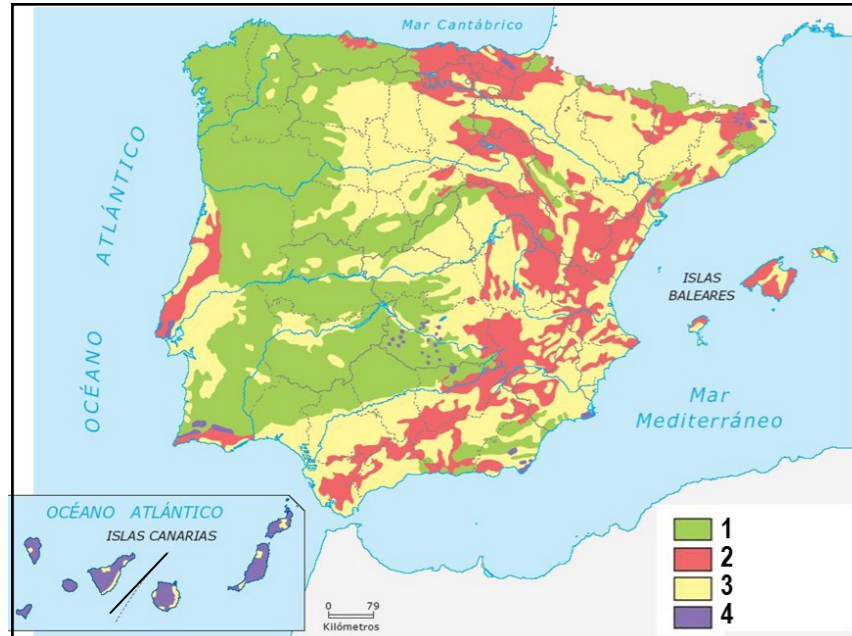


GEOGRAFÍA

El alumnado deberá responder a una de las dos opciones que se proponen. Además de los contenidos, en la calificación de la prueba, particularmente en el Apartado B, se valorará la redacción, la ortografía y la puntuación.

OPCIÓN 1

APARTADO A (3 puntos)



Observe el mapa litológico y responda a las siguientes cuestiones:

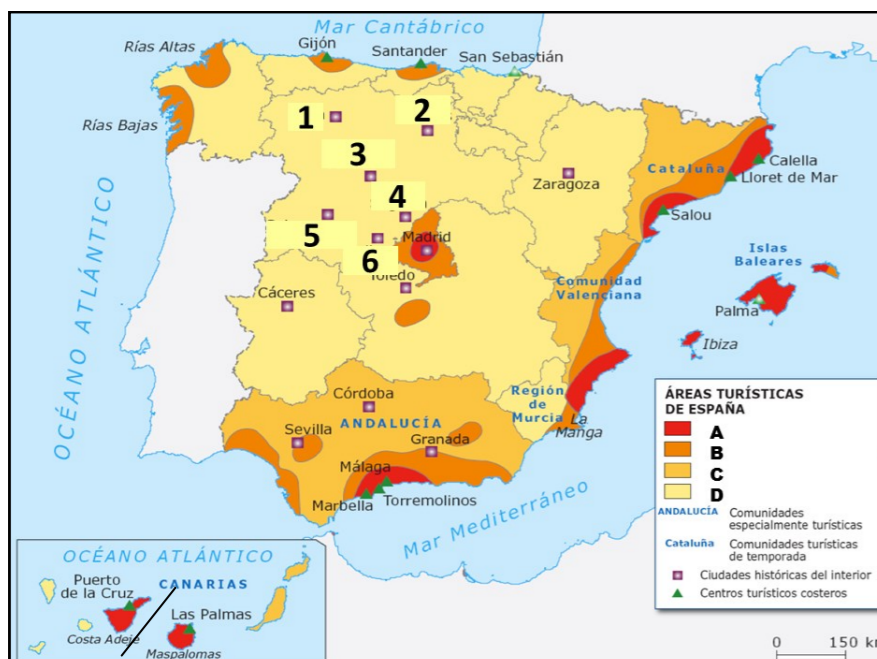
1. Identifique, utilizando como referencia los números, los cuatro dominios litológicos (1 punto).
2. ¿Cuáles son las características del sector señalado con el número 2? (1 punto).

Defina 3 de los siguientes términos (1 punto): Altitud, anticiclón, frondosa, formas glaciares, Reserva Natural.

APARTADO B (4 puntos)

Desarrolle de manera sintética el siguiente tema: EL PROCESO DE URBANIZACIÓN EN ESPAÑA: LAS ESTAPAS PREINDUSTRIAL, INDUSTRIAL Y POSTINDUSTRIAL. EL PROCESO DE URBANIZACIÓN EN ASTURIAS.

APARTADO C (3 puntos)



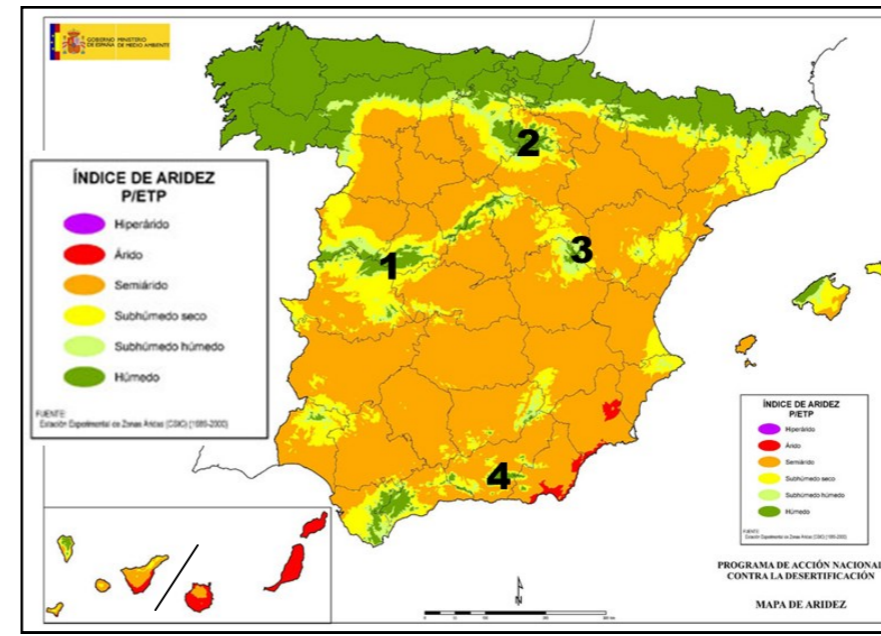
Observe el mapa y responda a las siguientes cuestiones:

1. Señale, utilizando como referencia las letras en la cartela, los 4 tipos de áreas turísticas existentes en España (1 punto).
2. Identifique, utilizando como referencia los números, las seis ciudades históricas de Castilla y León (1 punto).

Defina 3 de los siguientes términos (1 punto): Casco antiguo, barbecho, crecimiento vegetativo, parque tecnológico, Comunidad Autónoma.

OPCIÓN 2

APARTADO A (3 puntos)



Observe el mapa y responda a las siguientes cuestiones:

1. Señale el nombre de las cuatro provincias que presentan un índice "Árido" [color rojo] (1 punto)
2. ¿Qué razones explican la existencia de un índice "Húmedo" en las zonas señaladas con los números 1, 2, 3 y 4? (1 punto)

Defina 3 de los siguientes términos (1 punto): Capa sedimentaria, conífera, borrasca, latitud, Parque Nacional.

APARTADO B (4 puntos)

Desarrolle de manera sintética el siguiente tema: LAS UNIDADES MORFOESTRUCTURALES DE LA PENÍNSULA IBÉRICA. LAS UNIDADES DE RELIEVE DE ASTURIAS

APARTADO C (3 puntos)



Observe la foto aérea y el plano y responda a las siguientes cuestiones:

1. ¿A qué época corresponde la parte de la ciudad de Zaragoza señalada en el plano?, ¿qué nombre recibían los dos ejes principales –en amarillo en el plano–? (1 punto).
2. Señale los principales factores de localización del primitivo emplazamiento (1 punto).

Defina 3 de los siguientes términos (1 punto): Barrio, densidad de población, regadío, provincia, sector secundario.



GEOGRAFÍA

Criterios de corrección

CRITERIOS GENERALES

El alumnado deberá responder a una de las dos opciones que se proponen. Además de los contenidos, en la calificación de la prueba, particularmente en el Apartado B, se valorará la redacción, la ortografía y la puntuación.

CRITERIOS ESPECÍFICOS

OPCIÓN 1

Apartado A.

El alumnado deberá demostrar capacidad para:

- Identificar los dominios litológicos silíceo, calcáreo, arcilloso y volcánico.
- Señalar como características del dominio calcáreo la presencia de rocas calizas, margas y areniscas, y la existencia de un modelado kárstico (lapiaces, gargantas, hoces, poljes, dolinas, torcas, uvalas, cuevas, cavernas, simas, etc).
- Definir los términos de: **altitud** (altura de un punto de la tierra respecto al nivel del mar. En los mapas topográficos viene expresada en metros), **anticiclón** (porción de la atmósfera hacia cuyo centro aumenta la presión. Visto en planta, en torno a dicho centro los vientos giran en el sentido de las agujas del reloj en el hemisferio norte y en el contrario en el hemisferio sur. En vista alzada, el aire tiende a descender de una forma más o menos continua, lo que en términos generales provoca su calentamiento, resecaimiento, y a causa de ello, un tiempo atmosférico bonancible), **frondosa** (vegetación arbórea caducifolia, que pierde la hoja en una determinada época del año), **formas glaciares** (formas del relieve terrestre causadas por los glaciares, bien en la actualidad o bien en periodos pasados más fríos que el actual), y **Reserva Natural** (figura de protección, cuya declaración corresponde a la administración autonómica, que tiene como finalidad la protección de ecosistemas, comunidades o elementos biológicos que, por su rareza, fragilidad, importancia o singularidad, necesitan y merecen ser protegidos). [LAS DEFINICIONES QUE SE DAN EN ESTOS CRITERIOS SON MERAMENTE INDICATIVAS]

Apartado B

El alumnado deberá demostrar capacidad para:



- Reconocer la existencia de diferentes etapas en el proceso de urbanización en España (preindustrial, industrial y postindustrial).
- Señalar los principales rasgos de cada una de las etapas
- Explicar el proceso de urbanización en el caso asturiano.

Apartado C

El alumnado deberá demostrar capacidad para:

- Reconocer en el mapa las áreas turísticas según su densidad: densidad alta (A), densidad media (B), densidad baja (C), y zonas poco turísticas (D)
- Identificar las seis ciudades históricas de Castilla y León: León (1), Burgos (2), Valladolid (3), Segovia (4), Salamanca (5) y Ávila (6).
- Definir los términos de: **casco antiguo** (denominación utilizada para referirse a la parte más vieja de una ciudad, normalmente a la heredada de la época preindustrial. Su forma suele responder a un crecimiento inorgánico, no planificado, en cuyo caso tendrá un trazado viario desordenado y una edificación de baja altura, que se organiza en manzanas cerradas), **barbecho** (técnica de cultivo utilizada en las tierras de labor consistente en dejar descansar una parte de la tierra durante un tiempo, con la finalidad de que pueda recuperar de forma natural la riqueza orgánica y mineral perdida durante el proceso de crecimiento de las plantas), **crecimiento vegetativo** (diferencia entre el número de nacidos y el número de muertos habidos en un lugar en un período dado de tiempo), **parque tecnológico** (espacio cuya ocupación se planifica y organiza para acoger a empresas cuyo valor añadido está generado en su mayor parte por el conocimiento tecnológico y la capacidad de transferencia. Se diferencia también de los polígonos industriales tradicionales por su calidad ambiental y arquitectónica), y **Comunidad Autónoma** (en España, cada una de las 17 unidades administrativas nacidas al amparo de la Constitución de 1978, cuyo rango ocupa una posición intermedia entre el de la administración estatal y la provincial y municipal; pueden estar formadas por una o varias provincias y disponen de gobierno y cámara legislativa propias), [LAS DEFINICIONES QUE SE DAN EN ESTOS CRITERIOS SON MERAMENTE INDICATIVAS]

OPCIÓN 2

Apartado A

El alumnado deberá demostrar capacidad para:

- Identificar las provincias de Murcia, Almería, Santa Cruz de Tenerife y Las Palmas como aquellas en las que el valor del Índice de Aridez es "Árido".
- Señalar como razón básica que explica de un índice "Húmedo" en las zonas señaladas con los números 1, 2, 3 y 4 la presencia de las cadenas montañosas (Sistema Central, Sistema Ibérico y Cadenas Béticas), que actúan como efecto de "barrera" y provocan un incremento de las precipitaciones (azonalidad).
- Definir los términos de: **capa sedimentaria** (en las rocas sedimentarias, cada una de las unidades de sedimentación elementales, separadas entre sí por planos de discontinuidad perceptibles a simple vista y que se denominan planos de estratificación), **conífera** (árbol o arbusto de hoja perenne en forma de aguja y frutos en forma de cono, como el pino o el abeto), **borrasca** (porción de la atmósfera hacia cuyo



centro disminuye la presión),, **latitud** (distancia que hay desde un punto de la superficie de la tierra al Ecuador medida en los grados de su meridiano. Sus valores oscilan entre cero y noventa grados, debiendo indicarse si se trata del hemisferio norte o del hemisferio sur), y **Parque Nacional** (figura legal de protección, cuya declaración corresponde a la administración central del Estado. Trata de preservar la flora, la fauna o la belleza natural de espacios de especial relevancia paisajística, cultural, etc. El primer parque nacional del mundo fue el de Yellowstone (1872); en España existen 13, uno de ellos el de Picos de Europa), [LAS DEFINICIONES QUE SE DAN EN ESTOS CRITERIOS SON MERAMENTE INDICATIVAS]

Apartado B

El alumnado deberá demostrar capacidad para:

- Señalar como unidades morfoestructurales de la Península las dos mesetas, identificando sus unidades interiores y sus rebordes, las depresiones exteriores y las cadenas montañosas periféricas.
- Indicar el periodo de formación y las características de cada uno de los grandes conjuntos.
- Diferenciar las unidades de relieve de Asturias (marina; sierras litorales; relieves, crestas y surcos del sector occidental; depresiones tectónicas; y montañas de la divisoria).

Apartado C

El alumnado deberá demostrar capacidad para:

- Reconocer que la parte de la ciudad de Zaragoza señalada en el plano corresponde a la época romana (Cesaraugusta), y que los dos ejes principales eran el cardo (norte-sur) y decumano (este-oeste).
- Señalar como principales factores de localización del primitivo emplazamiento la presencia de agua (Ebro), la fertilidad de la tierra de los alrededores, y la disposición estratégica en el valle del Ebro en el eje de comunicaciones entre el Cantábrico y el Mediterráneo.
- Definir los términos de: **barrio** (cada una de las partes en las que se dividen las ciudades o los pueblos. En las ciudades mayores suelen disponer de órganos de gestión propios, dependientes del ayuntamiento), **densidad de población** (número de habitantes por unidad de superficie, como hectárea, kilómetro cuadrado, etc. Se calcula dividiendo la población de un lugar entre su superficie), **regadío** (técnica aplicada al espacio agrario consistente en derramar agua sobre las plantas, de forma voluntaria, para favorecer su desarrollo; por extensión se dice del terreno agrícola que posee los medios técnicos necesarios para aportar artificialmente agua al suelo), **provincia** (cada una de las 50 unidades administrativas mayores en las que se dividen las comunidades autónomas. Su origen se encuentra en la división provincial de España realizada por Javier de Burgos en 1833), y **sector secundario** (conjunto de actividades económicas cuya finalidad es la transformación de los recursos naturales en bienes; reúne a todos los tipos de industrias, como la alimentaria, la textil, la metalúrgica, la papelera, la de material de transporte, la de minerales no metálicos, etc.) [LAS DEFINICIONES QUE SE DAN EN ESTOS CRITERIOS SON MERAMENTE INDICATIVAS]