

GEOGRAFÍA

- Responda en el pliego en blanco a:
- **Tres preguntas de 2 puntos** a elegir entre las **preguntas 1 a 6 (máximo 6 puntos)**.
 - **Cuatro preguntas de 1 punto** a elegir entre las **preguntas 7 a 14 (máximo 4 puntos)**.
- Agrupaciones de preguntas que sumen más de 10 puntos o que no coincidan con las indicadas conllevarán la **anulación** de la(s) última(s) pregunta(s) seleccionada(s) y/o respondida(s).

Pregunta 1. Desarrolle de manera sintética: Clasificación de las unidades del relieve peninsular según sus características geomorfológicas. **(2 puntos)**

Pregunta 2 (Figura 1). Explique el cultivo de la imagen y los factores que propician el paisaje. ¿En qué nos basamos para decir que es un paisaje cultural? **(2 puntos)**



Figura 1

Pregunta 3 (Figura 2). ¿Cuáles son las características de este clima desde el punto de vista de las temperaturas y de las precipitaciones? ¿A qué tipo corresponde y dónde se localiza? **(2 puntos)**

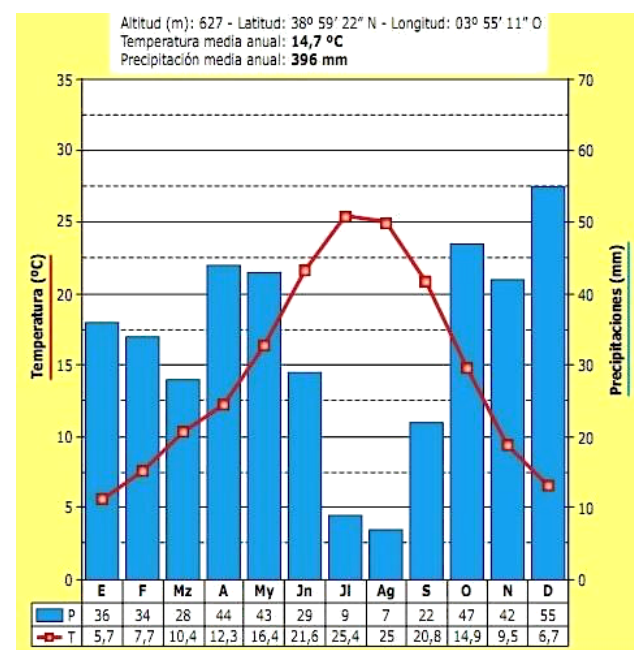


Figura 2

Pregunta 4 (Figura 3). Explique el elemento principal que afecta al oeste peninsular. ¿Qué tipo de tiempo predominará en el oeste peninsular atendiendo a la situación atmosférica reflejada en el mapa? **(2 puntos)**

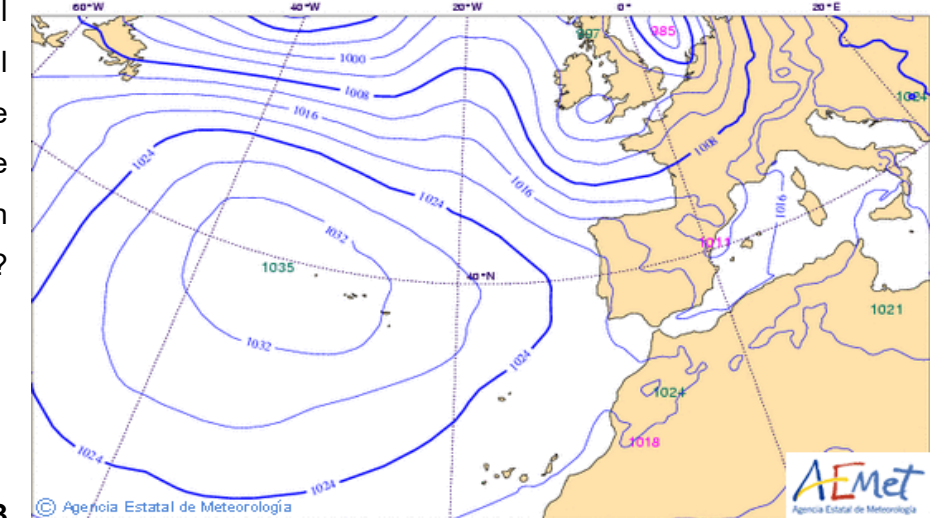


Figura 3

Pregunta 5 (Figura 4). Desde el punto de vista de los principios de sostenibilidad, ¿qué beneficios tiene introducir un corredor verde que conecte el centro urbano con los barrios? **(2 puntos)**



Figura 4

Pregunta 6 (Figura 5). Explique los rasgos de la natalidad y de la mortalidad entre los años cuarenta y finales del siglo XX. ¿Qué relación existe en la evolución de las dos curvas en esos años? (2 puntos)

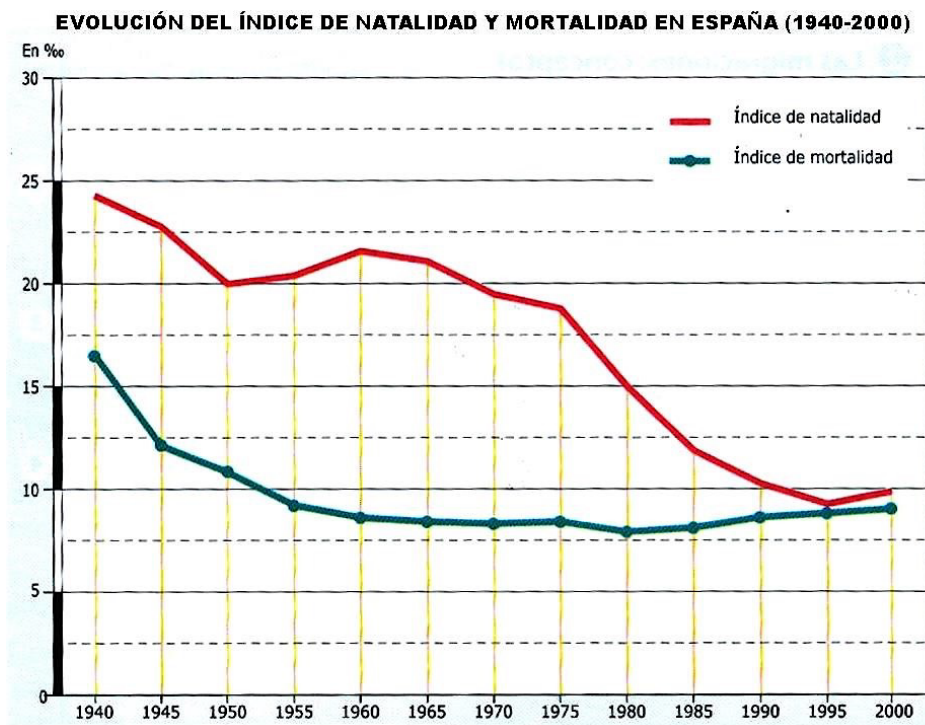


Figura 5

Pregunta 7 (Figura 6). Tomando como referencia la topografía y los distintos usos del suelo, ¿en qué zona de España se podría situar el paisaje de la imagen? (1 punto)



Figura 6

Pregunta 8 (Figura 6). En esta imagen, ¿en qué se manifiesta la acción humana sobre el medio natural? (1 punto)

Pregunta 9. Desarrolle de manera sintética: La ganadería en España: evolución hacia un modelo agroindustrial. (1 punto)

Pregunta 10. Desarrolle de manera sintética: La red viaria en España: autopistas y autovías. (1 punto)

Pregunta 11 (Figura 7). Identifique el número correspondiente a las provincias de Cádiz, Guadalajara, Huesca y Zamora. (1 punto)

Pregunta 12 (Figura 7). Indique el número y el nombre de las provincias limítrofes con Teruel. (1 punto)



Figura 7

Pregunta 13 (Texto 1). ¿Qué aspectos de la Política Agraria Común afectan positiva y negativamente a España? (1 punto)

Pregunta 14 (Texto 1). ¿Qué asuntos pueden cuidar las políticas europeas en materia agraria y pesquera para resultar responsables con el medio ambiente? (1 punto)

Texto 1. Desde su adhesión, España ha participado activamente en el desarrollo y profundización de las políticas europeas más importantes: la Política Agraria Común, la Política Pesquera Común, el Mercado Interior, la política energética y de transportes, la política industrial y la política educativa, cultural y social. En los últimos años, además, España ha apoyado una reorientación de estas políticas para dar respuesta a los grandes desafíos del siglo XXI: una UE de la Salud capaz de responder a crisis sanitarias transfronterizas, una transición ecológica justa para una economía sostenible y circular, unas políticas agraria y pesquera responsables con el medio ambiente, una política social fuerte que promueva unas condiciones de vida dignas para todos, una política de igualdad de género que sirva de referente mundial, una transición digital segura que no deje a nadie atrás, y una política industrial inclusiva que fomente la innovación, la competitividad y la autonomía estratégica de la UE.

“España y la Unión Europea”, Ministerio de Asuntos Exteriores, Unión Europea y Cooperación, s.f.