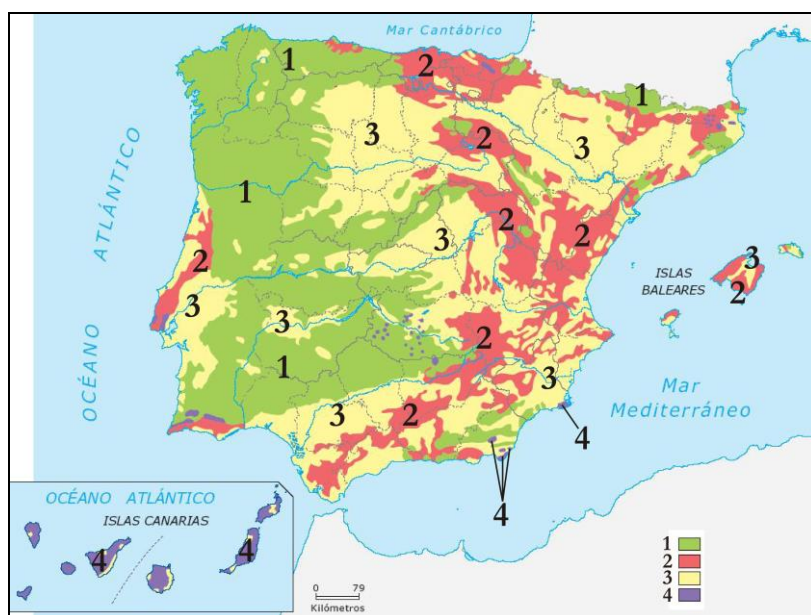


GEOGRAFÍA

OPCIÓN A

PREGUNTA 1

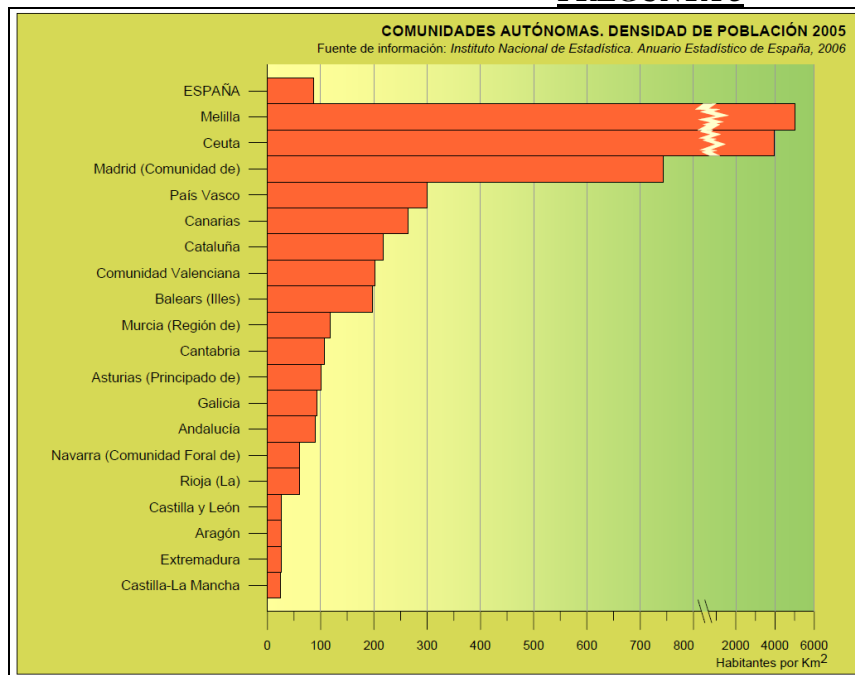


- Identifique los cuatro dominios litológicos de España (1 punto).
- Exponga las principales características del señalado con el número 1 (1 punto).

PREGUNTA 2: Desarrollo de manera sintética el siguiente tema

Los efectos del cambio climático en España. Cambios en las temperaturas y las precipitaciones, y efectos sobre el medio ambiente. (2 puntos).

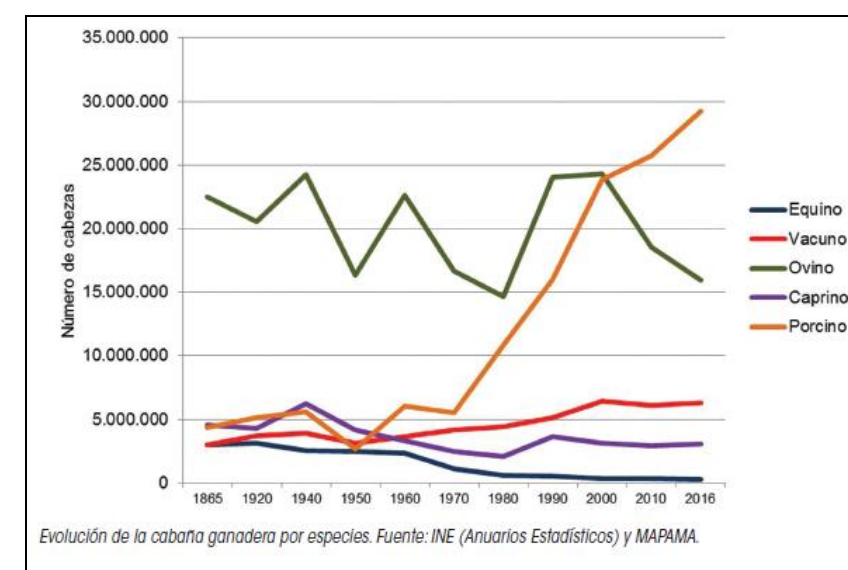
PREGUNTA 3



- A la vista del gráfico, explique los valores de la densidad de población de las Comunidades Autónomas (1 punto).
- ¿Qué característica, desde el punto de vista de la localización geográfica, es común a todas las Comunidades cuya densidad de población es inferior a la media nacional? (1 punto).

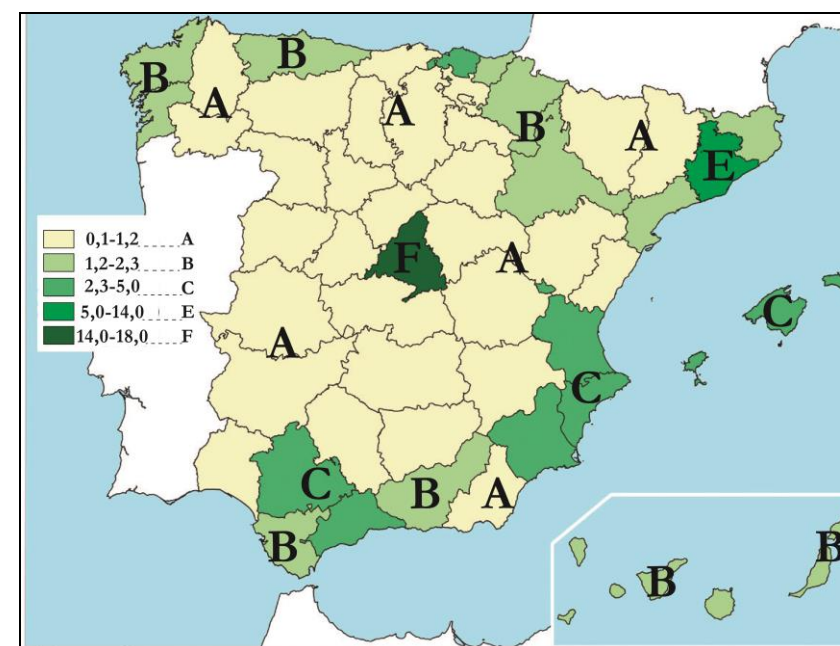
OPCIÓN A

PREGUNTA 4



- ¿A qué obedece el incremento de la cabaña ganadera de porcino a partir de 1950? (1 punto).
- ¿Qué razones explican la práctica desaparición de la cabaña de equino? (1 punto).
- Defina “ganadería extensiva” (1 punto).

PREGUNTA 5



- A la vista del mapa de la aportación provincial al PIB total en 2014 (en %), responda a las siguientes cuestiones:
- ¿Qué provincias presentaban un valor superior al 2,3 %? (0,5 puntos).
 - Señale lo elementos más sobresalientes del desequilibrio territorial (0,5 puntos)

GEOGRAFÍA

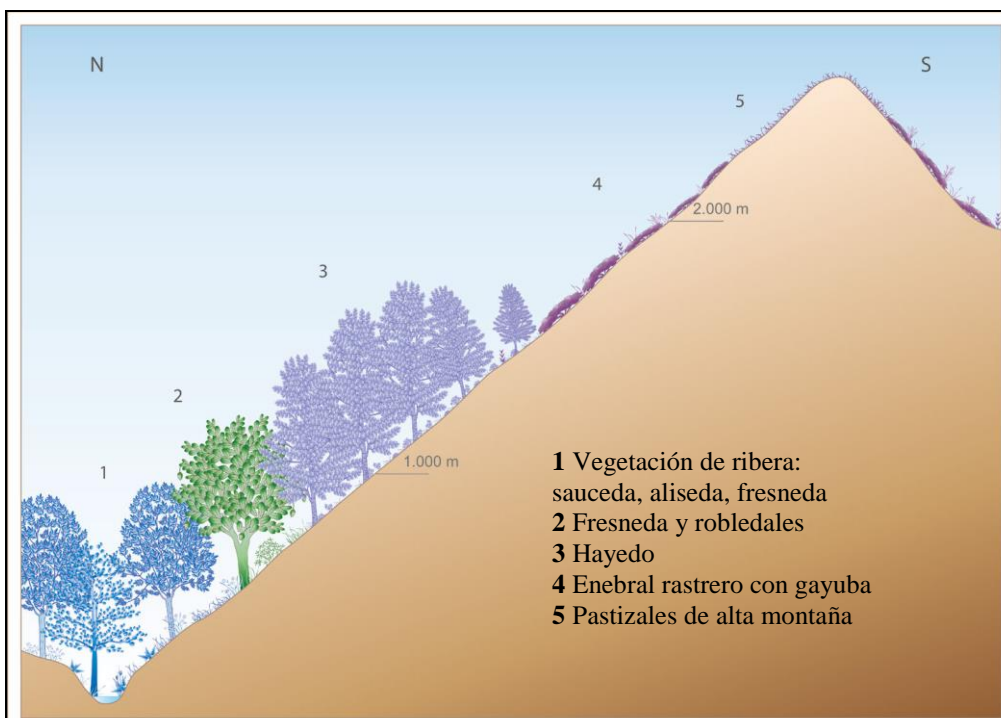
OPCIÓN B

PREGUNTA 1



- a) Señale los componentes naturales del paisaje que aparece en la imagen (1 punto).
- b) Haga lo propio con los componentes culturales (1 punto).

PREGUNTA 2



- 1 Vegetación de ribera: saucedá, alisedá, fresnedá
- 2 Fresnedá y robledales
- 3 Hayedo
- 4 Enebral rastrero con gayuba
- 5 Pastizales de alta montaña

- c) Identifique el medio bioclimático al que pertenece la cliserie [razone la respuesta] (1 punto).
- d) ¿Cuáles son las principales características de la vegetación de ribera? (1 punto).

OPCIÓN B

PREGUNTA 3: Desarrolle de manera sintética el siguiente tema

Las migraciones interiores en España (2 puntos).

PREGUNTA 4



- a) Utilizando como referencia los números, identifique los componentes del espacio industrial de Gijón (1 punto).
- b) Señale, a la vista de la imagen, la relación existente entre el espacio industrial y las infraestructuras de transporte (1 punto).
- c) Defina “parque empresarial” (1 punto).

PREGUNTA 5

España ha participado activamente en el proyecto de construcción europea en los últimos veinte años. Desde su entrada en el club europeo, el 1 de enero de 1986, su alto nivel de implicación ha sido reconocido de forma unánime. Los observadores nacionales e internacionales han hablado del éxito de la gestión española como Estado miembro y han otorgado a España el calificativo de grande del Sur [...]

En los primeros años de su pertenencia a la Unión, España dejaba atrás su perfil periférico en la agenda internacional y empezaba a participar activamente en el proyecto europeo. El cambio iba acompañado de la necesaria modernización de su servicio exterior y de su proyección internacional como país impulsor de iniciativas políticas y comprometido en misiones de paz.

Fuente: CVCE. Juan Manuel Fernández Fernández-Cuesta. *España en la Unión Europea* (2016)

- a) ¿A qué se refiere la expresión “grande del sur”? (0,5 puntos).
- b) ¿Qué significa el texto “España dejaba atrás su perfil periférico en la agenda internacional”? (0,5 puntos).