

## GEOGRAFÍA

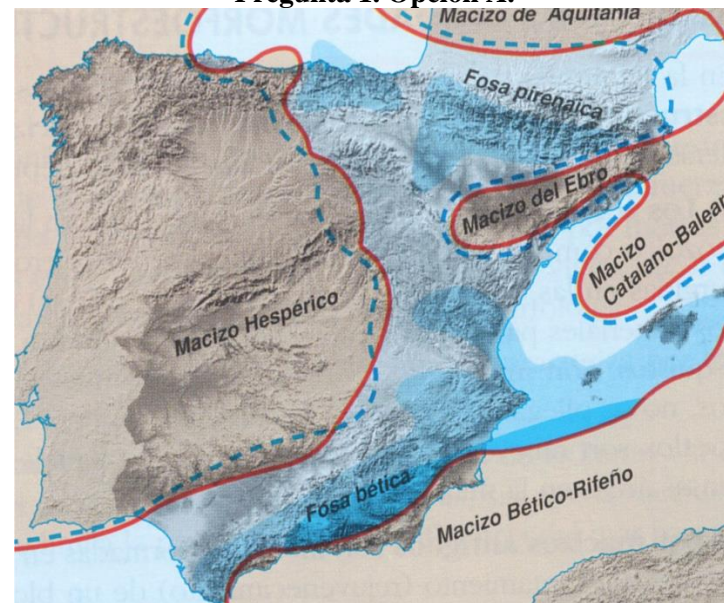
Después de leer atentamente el examen, combine las preguntas de la siguiente forma:

- Responda tres preguntas de 2 puntos a elegir entre las preguntas 1.A, 1.B, 2.A, 2.B, 3.A o 3B.
- Responda cuatro apartados calificados con 1 punto entre los 8 sugeridos en las preguntas 4.A, 4.B, 5A o 5.B.

TIEMPO Y CALIFICACIÓN: 90 minutos. Las preguntas 1ª, 2ª y 3ª se calificarán con un máximo de 2 puntos. Cada apartado de las preguntas 4ª y 5ª se calificará con un máximo de 1 punto.

El estudiante deberá indicar la agrupación de preguntas que responderá. La selección de preguntas deberá realizarse conforme a las instrucciones planteadas, no siendo válido seleccionar preguntas que sumen más de 10 puntos, ni agrupaciones de preguntas que no coincidan con las indicadas, lo que puede conllevar la anulación de alguna pregunta que se salga de las instrucciones..

### Pregunta 1. Opción A.



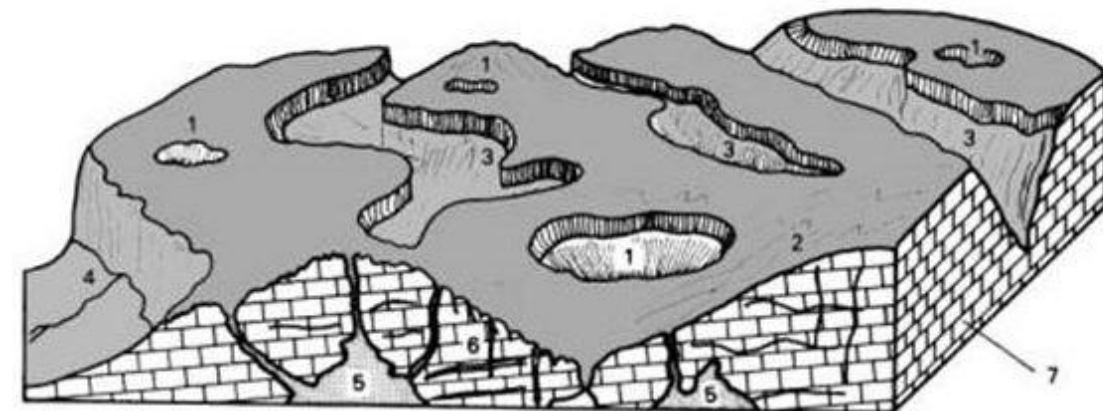
¿Qué período de la evolución geológica de la Península está representado en el mapa? ¿Qué procesos caracterizan a esta etapa? (2 puntos).

### Pregunta 2. Opción A.



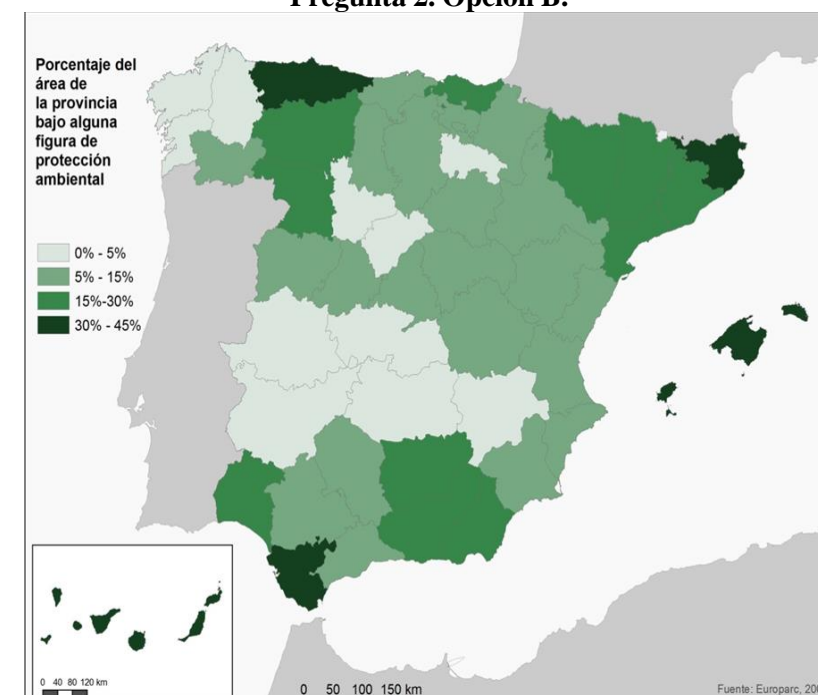
Identifique las Comunidades Autónomas en las que se concentran principalmente los humedales. Señale al menos dos tipos de humedales presentes en Asturias (2 puntos).

### Pregunta 1. Opción B.



Identifique el tipo de relieve del bloque diagrama. ¿Qué fenómeno origina el singular modelado? ¿Qué forma de relieve se identifica con el número 1? (2 puntos).

### Pregunta 2. Opción B.



Identifique las provincias con un mayor porcentaje de superficie con alguna figura de protección ambiental (más del 30%). ¿Hay ejemplos de la principal figura de protección en esas provincias? Señálelos. (2 puntos).

## GEOGRAFÍA

### Pregunta 3. Opción A.

Desarrolle de manera sintética el siguiente tema:

La transición demográfica en España: ciclos demográficos antiguo, de transición y moderno (2 puntos).

### Pregunta 4. Opción A.



- a) A la vista de la imagen, identifique la actividad económica dominante [razone la respuesta] (1 punto).  
 b) ¿A qué zona de España corresponde este paisaje? (1 punto).

### Pregunta 5. Opción A.

#### Capítulo tercero. De las Comunidades Autónomas

#### Artículo 144

Las Cortes Generales, mediante ley orgánica, podrán, por motivos de interés nacional:

- a) Autorizar la constitución de una comunidad autónoma cuando su ámbito territorial no supere el de una provincia y no reúna las condiciones del apartado 1 del artículo 143.  
 b) Autorizar o acordar, en su caso, un Estatuto de autonomía para territorios que no estén integrados en la organización provincial.

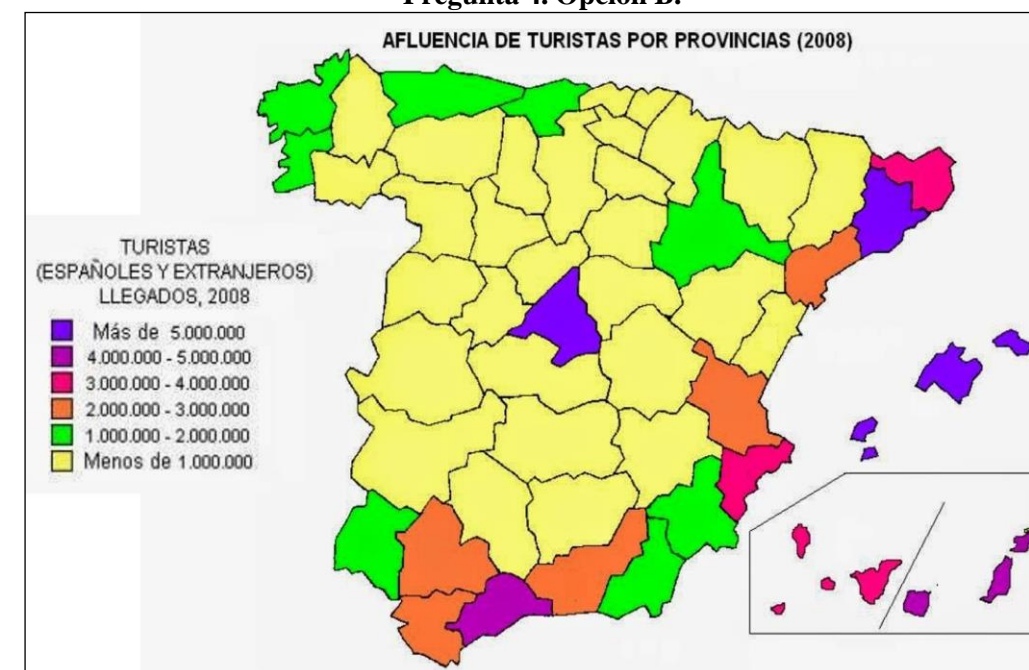
- a) ¿Cuáles son las comunidades uniprovinciales creadas al amparo del Artículo 144 de la Constitución? (1 punto).  
 b) Indique un territorio no integrado en la organización provincial que tenga Estatuto de Autonomía (1 punto).

### Pregunta 3. Opción B.

Desarrolle de manera sintética el siguiente tema:

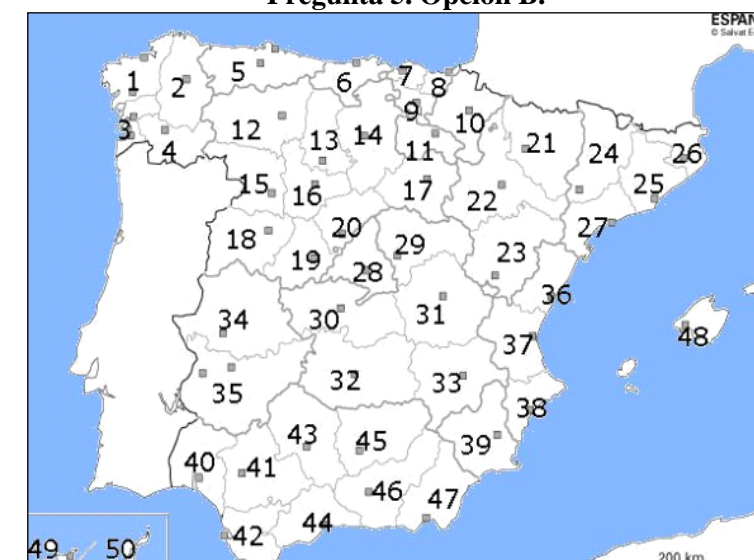
Características de las periferias de las ciudades españolas (2 puntos).

### Pregunta 4. Opción B.



- a) Identifique, las provincias con una afluencia de turistas entre 1.000.000 y 2.000.000 (1 punto).  
 b) ¿Qué razones explican la presencia de valores superiores a 3 millones de turistas en algunas provincias del litoral mediterráneo y en las islas? (1 punto).

### Pregunta 5. Opción B.



- a) Identifique las provincias señaladas con los números 5, 6, 7, 8, 9, 10 y 11, e indique cuáles son sus capitales (1 punto).  
 b) Señale las Comunidades Autónomas a las que pertenecen las provincias referidas en el apartado anterior. Todas, menos una, presentan un rasgo particular. ¿De qué se trata? (1 punto).