

El alumnado deberá responder a una de las dos opciones que se proponen. Además de los contenidos, en la calificación de la prueba, particularmente en el Apartado B, se valorará la redacción, la ortografía y la puntuación.

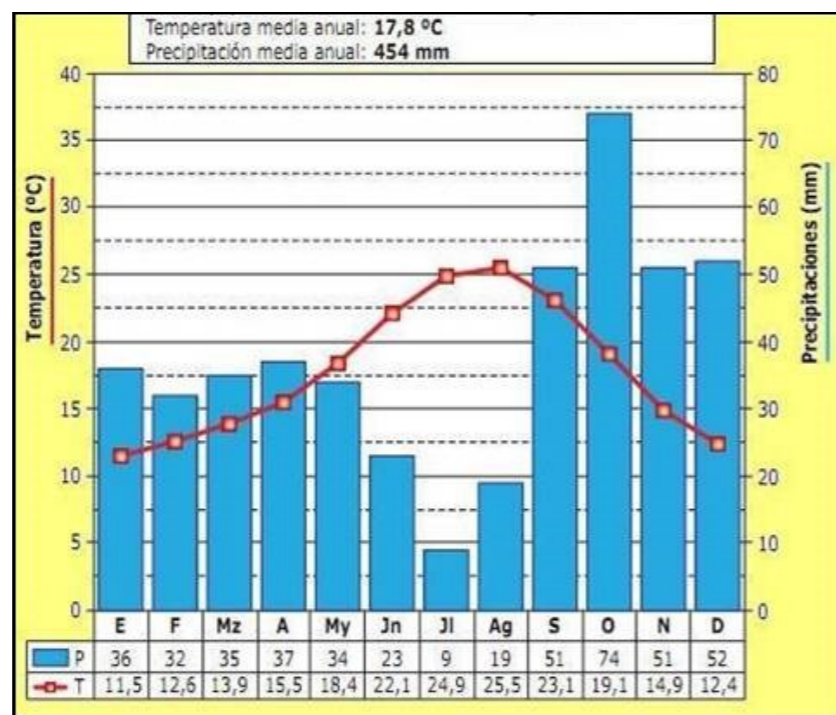
## OPCIÓN 1

### APARTADO A (3 puntos)

Observe el climograma y responda a las siguientes cuestiones:

- ¿Con qué tipo de clima se corresponde el climograma, y cuáles son sus principales características desde el punto de vista de las temperaturas y de las precipitaciones? (1 punto)
- ¿Cuáles son las razones que explican los valores de las temperaturas? (1 punto).

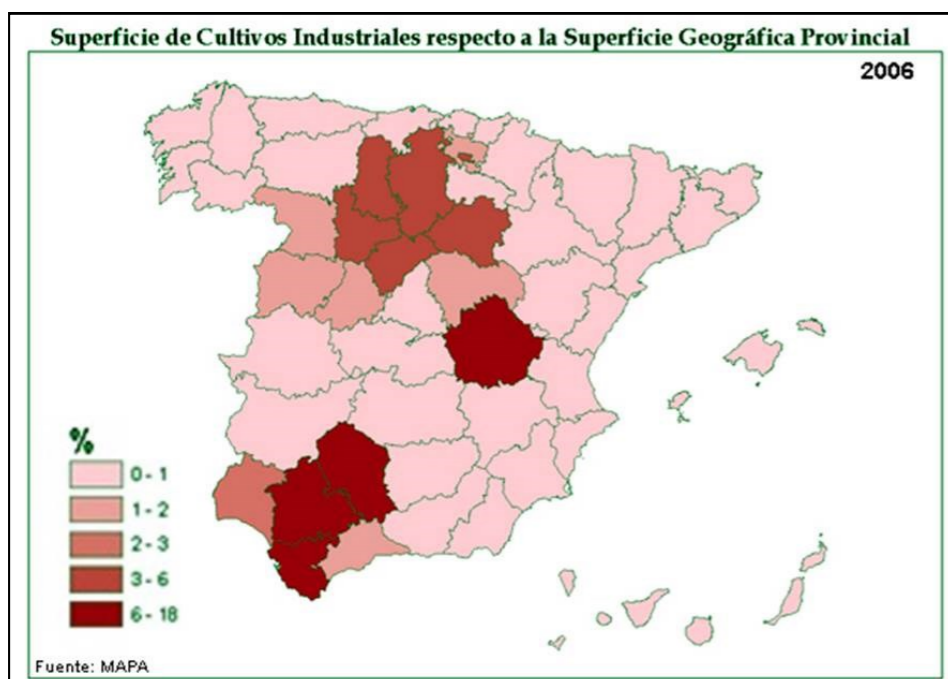
Defina 3 de los siguientes términos (1 punto): incisión fluvial o torrencial, latitud, borrasca, monte bajo, Reserva Natural.



### APARTADO B (4 puntos)

Desarrolle de manera sintética el siguiente tema: **EL TURISMO EN ESPAÑA; TIPOS DE TURISMO E IMPACTO AMBIENTAL QUE GENERAN. EL TURISMO EN ASTURIAS.**

### APARTADO C (3 puntos)



Observe el mapa y responda a las siguientes cuestiones:

- Señale las provincias en las que el porcentaje de la superficie dedicada a cultivos industriales es superior al 3% (1 punto).
- Indique cuál es el principal cultivo industrial en España y en que Comunidades Autónomas se cultiva fundamentalmente. (1 punto).

Defina 3 de los siguientes términos (1 punto): dehesa, materias primas, comercio exterior, densidad de población, área metropolitana.

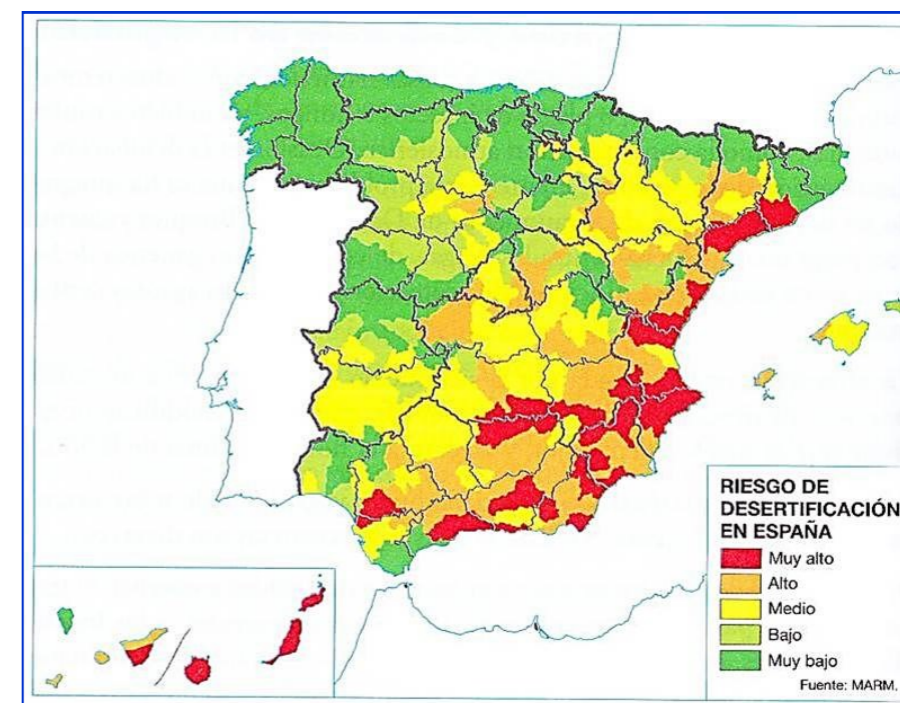
## OPCIÓN 2

### APARTADO A (3 puntos)

Observe el mapa y responda a las siguientes cuestiones:

- Identifique las provincias que tienen, en su totalidad, un riesgo de desertificación muy bajo (1 punto).
- Indique los principales factores que explican el alto riesgo de desertificación en el litoral mediterráneo (1 punto).

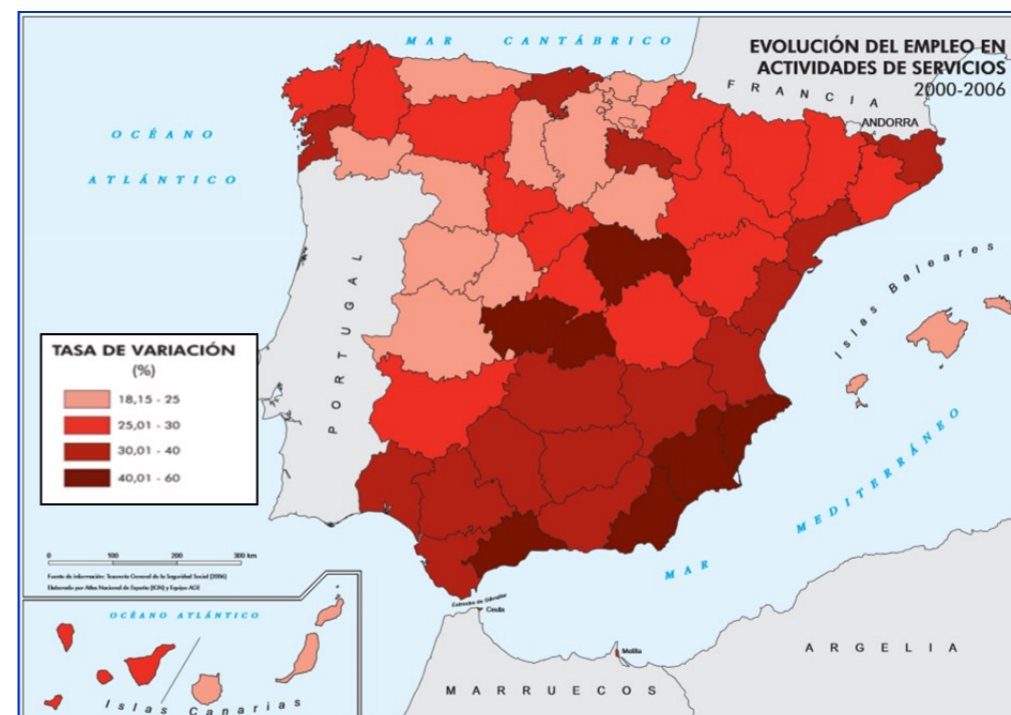
Defina 3 de los siguientes términos (1 punto): aridez, anticiclón, cota, bosque perennifolio, umbría.



### APARTADO B (4 puntos)

Desarrolle de manera sintética el siguiente tema: **EL CRECIMIENTO ESPACIAL DE LAS CIUDADES ESPAÑOLAS A RAÍZ DE LA INDUSTRIALIZACIÓN. EL CRECIMIENTO DE AVILÉS.**

### APARTADO C (3 puntos)



Observe el mapa y responda a las siguientes cuestiones:

- Señale las provincias en las que la tasa de variación del empleo en el sector servicios ha sido superior al 40% (1 punto).
- Indique las causas de tal evolución en esas provincias (1 punto).

Defina 3 de los siguientes términos (1 punto): índice de masculinidad, pesca de altura, pasto a diente, parque tecnológico, Comunidad Autónoma.