

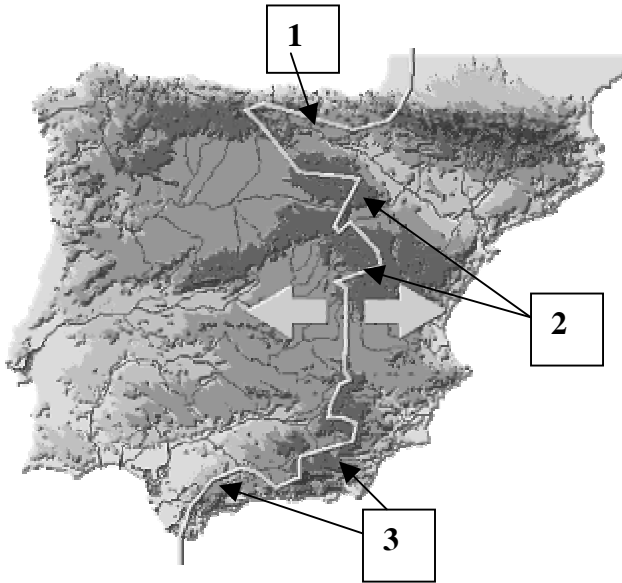


El alumnado deberá responder a una de las dos opciones en los Apartados A y C (3 puntos cada Apartado) y desarrollar un tema de los propuestos en el Apartado B (4 puntos). Además de los contenidos, en la calificación de la prueba, particularmente en el Apartado B, se valorará la redacción, la ortografía y la puntuación.

## APARTADO A

### Opción 1

---

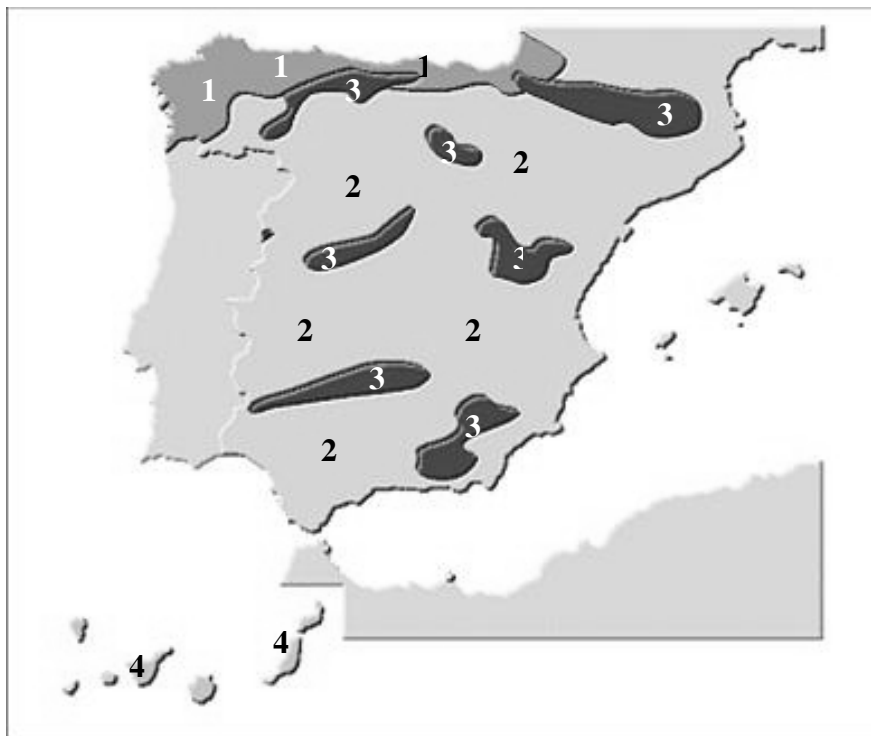


Observe el mapa que se adjuntan y de respuesta a los siguientes apartados:

- a) Explique las razones de la disimetría entre las cuencas hidrográficas (1 punto).
- b) Identifique, utilizando como referencia los números, las unidades de relieve que forman la divisoria (1 punto).
- c) Señalar las principales características de los cursos de agua que vierten al Cantábrico (1 punto).

### Opción 2

---



- a) Identifique, utilizando como referencia los números, las grandes áreas de vegetación (1 punto).
- b) Señale brevemente las principales características de cada una de ellas (2 puntos)



## APARTADO B

Desarrolle de manera sintética uno de los tres temas siguientes:

- 1) La movilidad espacial de la población española: emigración exterior y movimientos interiores.
- 2) La industria española en la actualidad. Factores de localización y principales áreas y ejes de desarrollo.
- 3) Los paisajes agrarios de la España Húmeda.

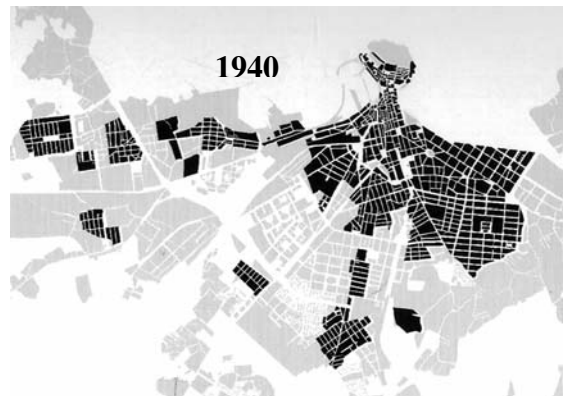
## APARTADO C

### Opción 1

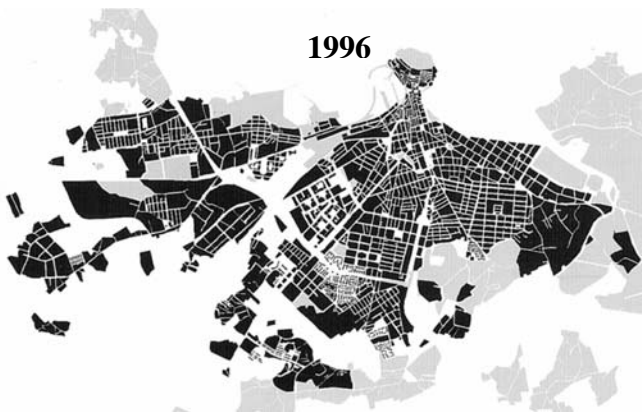
1870



1940



1996



Comente, a la vista de las imágenes, los principales rasgos del crecimiento espacial de Gijón

### Opción 2

Comente, a la vista del gráfico, las principales características del modelo turístico español en la segunda mitad del siglo XX

