

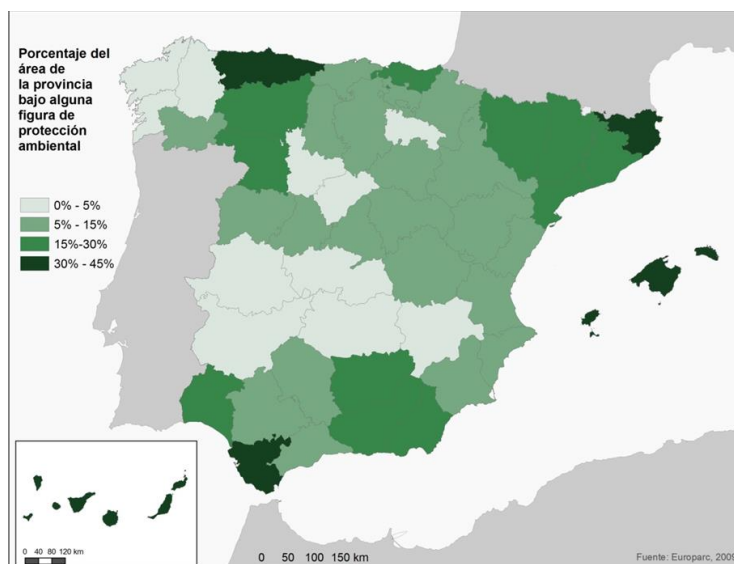
GEOGRAFÍA

OPCIÓN A

PREGUNTA 1: Desarrolle de manera sintética el siguiente tema

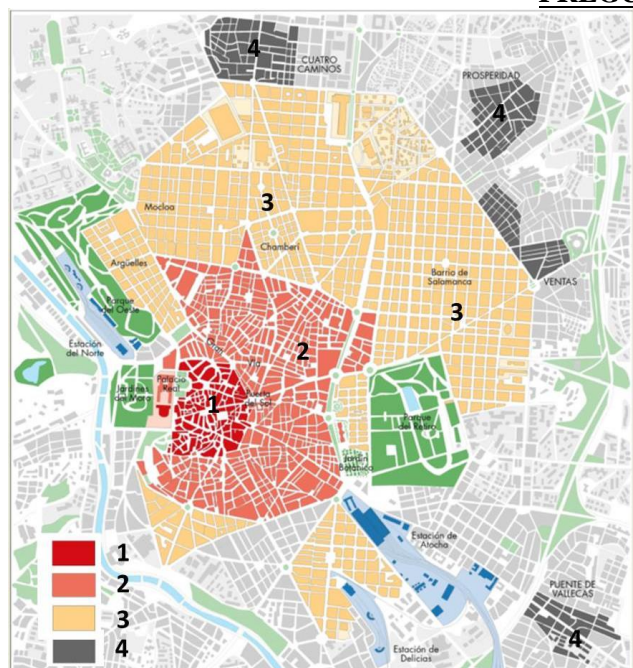
Las unidades morfoestructurales de la Península Ibérica (2 puntos).

PREGUNTA 2



- Identifique las provincias con un mayor porcentaje de superficie con alguna figura de protección ambiental (más del 30 %) (1 punto).
- Señale al menos tres Parques Nacionales localizados en esas provincias (1 punto).

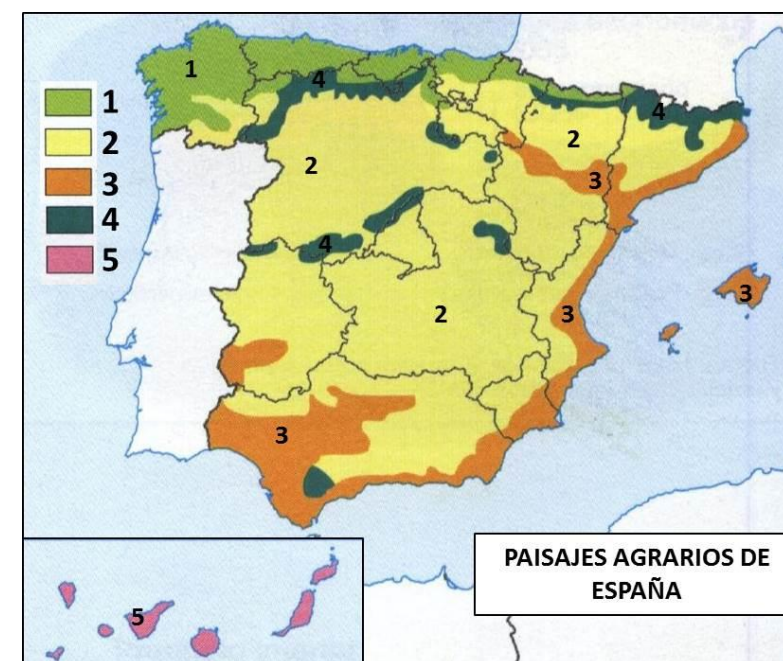
PREGUNTA 3



- Identifique, utilizando como referencia los números, las áreas de la ciudad, e indique la época de su creación (1 punto).
- Indique las principales características morfológicas del área señalada con el número 3 (1 punto).

OPCIÓN A

PREGUNTA 4



- Identifique, utilizando como referencia los números, los paisajes agrarios de España (1 punto).
- Señale los paisajes en los que los usos dominantes son los ganaderos y los forestales (1 punto).
- Explique lo que es la agricultura intensiva (1 punto)

PREGUNTA 5

PERSPECTIVAS DE ESPAÑA EN LA UE

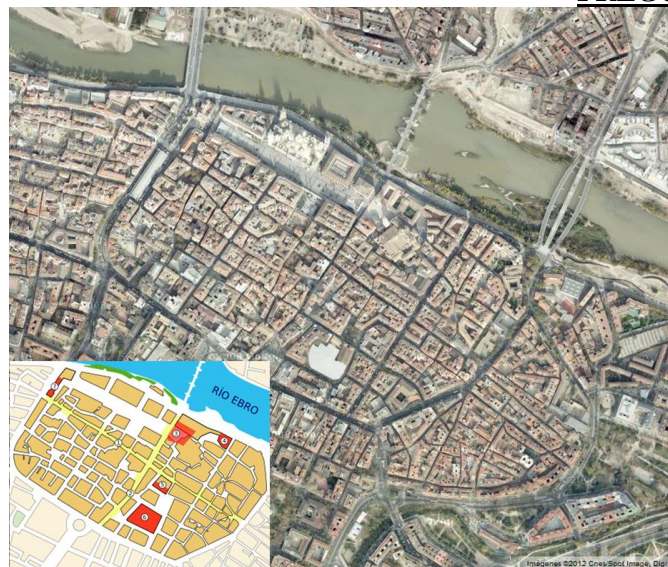
PERSPECTIVAS FAVORABLES	PERSPECTIVAS DESFAVORABLES
<ul style="list-style-type: none"> - Buenas perspectivas para los bienes de equipo y productos de alto contenido tecnológico. - Ampliación del mercado para los productos españoles. - Aumento de las posibilidades de inversión. 	<ul style="list-style-type: none"> - Reducción del número de parlamentarios y de votos en el Consejo de la Unión Europea. - Disminución de las ayudas procedentes de la política regional. - Competencia de precios más baratos de nuevos socios. - Posibles procesos de deslocalización industrial.

Después de leer las perspectivas favorables y desfavorables que se citan explique en qué se fundamentan las perspectivas desfavorables de la pertenencia de España a la Unión Europea que figuran en 2º, 3º y 4º lugar (1 punto).

GEOGRAFÍA

OPCIÓN B

PREGUNTA 1

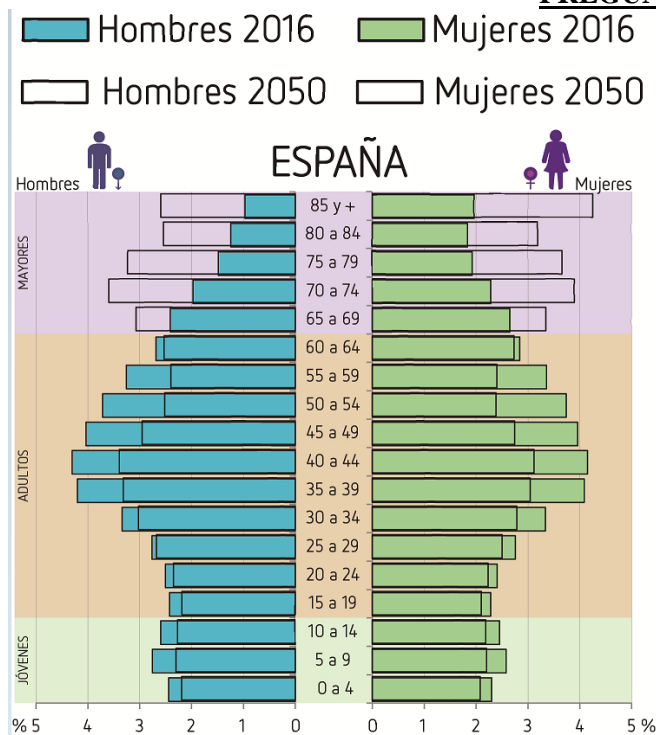


- ¿A qué época corresponde la parte de la ciudad de Zaragoza señalada en el plano y en la foto?, ¿qué nombre recibían los dos ejes principales —en amarillo en el plano—? (1 punto).
- Señale los principales factores de localización del primitivo emplazamiento (1 punto).

PREGUNTA 2: Desarrolle de manera sintética el siguiente tema

La red fluvial española: cuencas y vertientes (2 puntos).

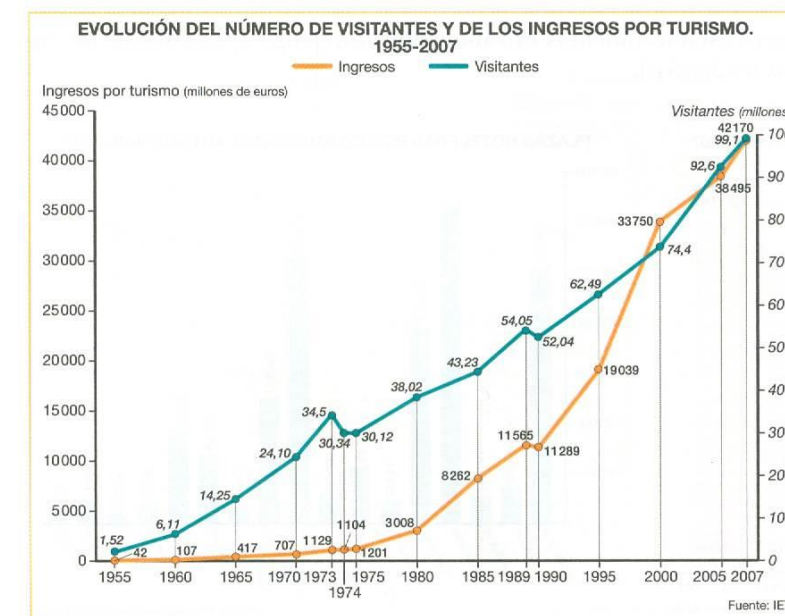
PREGUNTA 3



- Observe la pirámide de 2016 y la que refleja la proyección para 2050 y relaciónelas con la natalidad y con la esperanza de vida (1 punto).
- Indique los principales problemas que habrá que afrontar en el futuro, caso de mantenerse las previsiones de evolución (1 punto).

OPCIÓN B

PREGUNTA 4



- Indique las principales razones del incremento de visitantes entre 1955 y 1973 (1 punto).
- Explique las razones del fenómeno que se produce en el año 2000 (1 punto).
- Defina “turismo de masas” (1 punto).

PREGUNTA 5



Identifique, utilizando como referencia los números, las Comunidades Autónomas uniprovinciales, e indique sus capitales (1 punto).